


令和 3 年 度

兵庫県公立高等学校学力検査問題

理 科

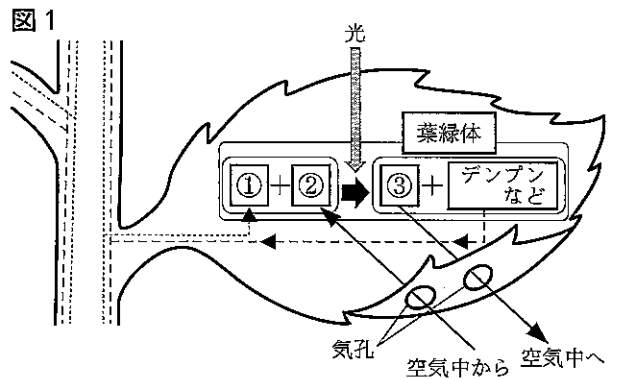
注 意

- 1 「開始」の合図があるまで開いてはいけません。
- 2 「開始」の合図で、1ページから8ページまで問題が印刷されていることを確かめなさい。
- 3 解答用紙の左上の欄に受検番号を書きなさい。
- 4 解答用紙の  の得点欄には、何も書いてはいけません。
- 5 答えは、全て解答用紙の指定された解答欄に書きなさい。
- 6 問題は5題で、8ページまであります。
- 7 「終了」の合図で、すぐ鉛筆を置きなさい。
- 8 解答用紙は、机の上に置いて、退室しなさい。

I 次の問いに答えなさい。

1 植物の葉のはたらきについて答えなさい。

- (1) 図1は、植物が葉で光を受けて栄養分をつくり出すしくみを模式的に表したものである。図中の①～③に入る語句として適切なものを、次のア～ウからそれぞれ1つ選んで、その符号を書きなさい。
ア 二酸化炭素 イ 酸素 ウ 水
- (2) (1)の下線部のはたらきを何というか、漢字で書きなさい。

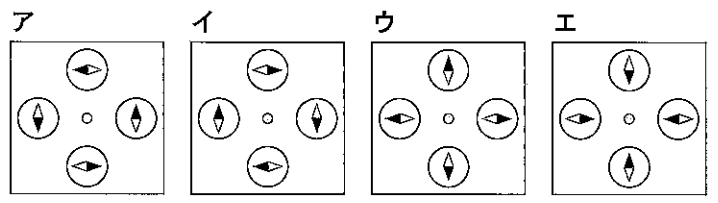
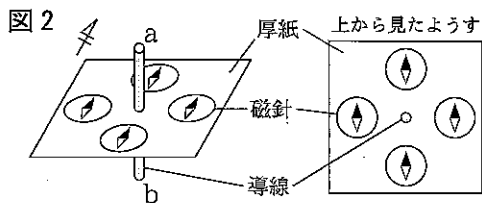


2 前線と天気の変化について答えなさい。

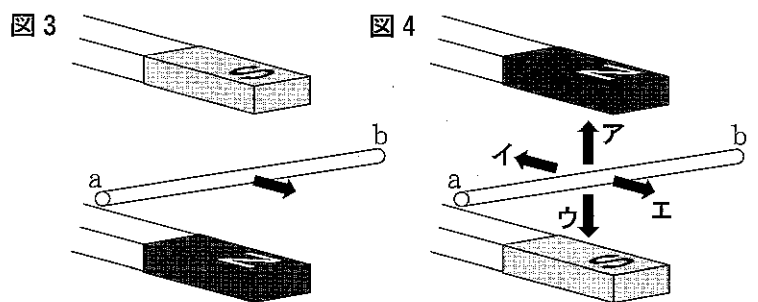
- (1) 寒冷前線について説明した次の文の①～③に入る語句の組み合わせとして適切なものを、あとのア～エから1つ選んで、その符号を書きなさい。
寒冷前線付近では、①は②の下にもぐりこみ、②が急激に上空高くにおし上げられるため、強い上昇気流が生じて、③が発達する。
ア ①寒気 ②暖気 ③積乱雲 イ ①寒気 ②暖気 ③乱層雲
ウ ①暖気 ②寒気 ③積乱雲 エ ①暖気 ②寒気 ③乱層雲
- (2) 温暖前線の通過にともなう天気の変化として適切なものを、次のア～エから1つ選んで、その符号を書きなさい。
ア 雨がせまい範囲に短時間降り、前線の通過後は気温が上がる。
イ 雨がせまい範囲に短時間降り、前線の通過後は気温が下がる。
ウ 雨が広い範囲に長時間降り、前線の通過後は気温が上がる。
エ 雨が広い範囲に長時間降り、前線の通過後は気温が下がる。

3 電流と磁界の関係について答えなさい。

- (1) 厚紙の中央にまっすぐな導線を差しこみ、そのまわりにN極が黒くぬられた磁針を図2のように置いた。電流をa→bの向きに流したときの磁針がさす向きとして適切なものを、次のア～エから1つ選んで、その符号を書きなさい。



- (2) U字形磁石の間に通した導線に、電流をa→bの向きに流すと、図3の矢印の向きに導線が動いた。図4において、電流をb→aの向きに流したとき、導線はどの向きに動くか。適切なものを、図4のア～エから1つ選んで、その符号を書きなさい。



4 気体の発生とその性質について答えなさい。

- (1) 酸化銀の熱分解を表す化学反応式を完成させるために、次の□に入れるものとして適切なものを、あとのア～エから1つ選んで、その符号を書きなさい。
 $2\text{Ag}_2\text{O} \rightarrow \square$
ア $2\text{Ag}_2 + 2\text{O}$ イ $2\text{Ag}_2 + \text{O}_2$ ウ $4\text{Ag} + 2\text{O}$ エ $4\text{Ag} + \text{O}_2$
- (2) (1)で発生した気体の性質として適切なものを、次のア～エから1つ選んで、その符号を書きなさい。
ア 無色、無臭で、ものを燃やすはたらきがある。
イ 無色で、刺激臭があり、空気より軽い。
ウ 無色、無臭で、空気中で燃えると水になる。
エ 黄緑色で、刺激臭があり、有毒である。

II 植物のからだのつくりと遺伝に関する次の問いに答えなさい。

1 図1は、ゼニゴケ、タンポポ、スギナ、イチョウ、イネの5種類の植物を、「種子をつくる」、「葉、茎、根の区別がある」、「子葉が2枚ある」、「子房がある」の特徴に注目して、あてはまるものには○、あてはまらないものには×をつけ、分類したものである。これらの植物を分類したそれぞれの特徴は、図1の①～④のいずれかにあてはまる。

(1) 図1の②、④の特徴として適切なものを、次のア～エからそれぞれ1つ選んで、その符号を書きなさい。

- ア 種子をつくる イ 葉、茎、根の区別がある
- ウ 子葉が2枚ある エ 子房がある

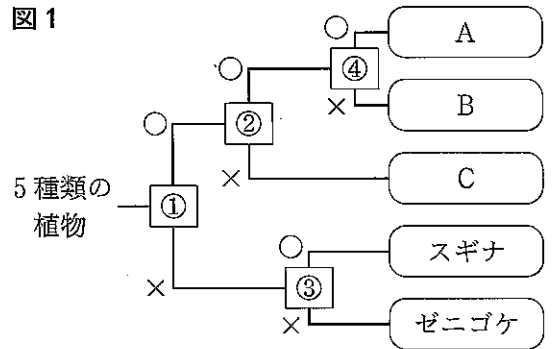
(2) 図1のA～Cの植物として適切なものを、次のア～ウからそれぞれ1つ選んで、その符号を書きなさい。

- ア タンポポ イ イチョウ ウ イネ

(3) ゼニゴケの特徴として適切なものを、次のア～オから1つ選んで、その符号を書きなさい。

- ア 花卉はつながっている イ 葉脈は平行に通る
- ウ 雄花に花粉のうがある エ 維管束がある

図1



オ 水を体の表面からとり入れる

2 マツバボタンの花の色には赤色と白色があり、赤色が優性形質で、白色が劣性形質である。遺伝の規則性を調べるため、X、Y 2つのグループに分けて、マツバボタンを使って、それぞれで図2のような実験を行った。Xグループは実験1、2、3を行い、Yグループは実験1、2、4を行った。ただし、マツバボタンの花の色の遺伝は、メンデルの遺伝に関する法則に従うものとする。

<実験1>

赤色の純系の花と白色の純系の花をかけ合わせた。その後、かけ合わせてできた種子をまいて育てたところ、子にあたる花が咲いた。

<実験2>

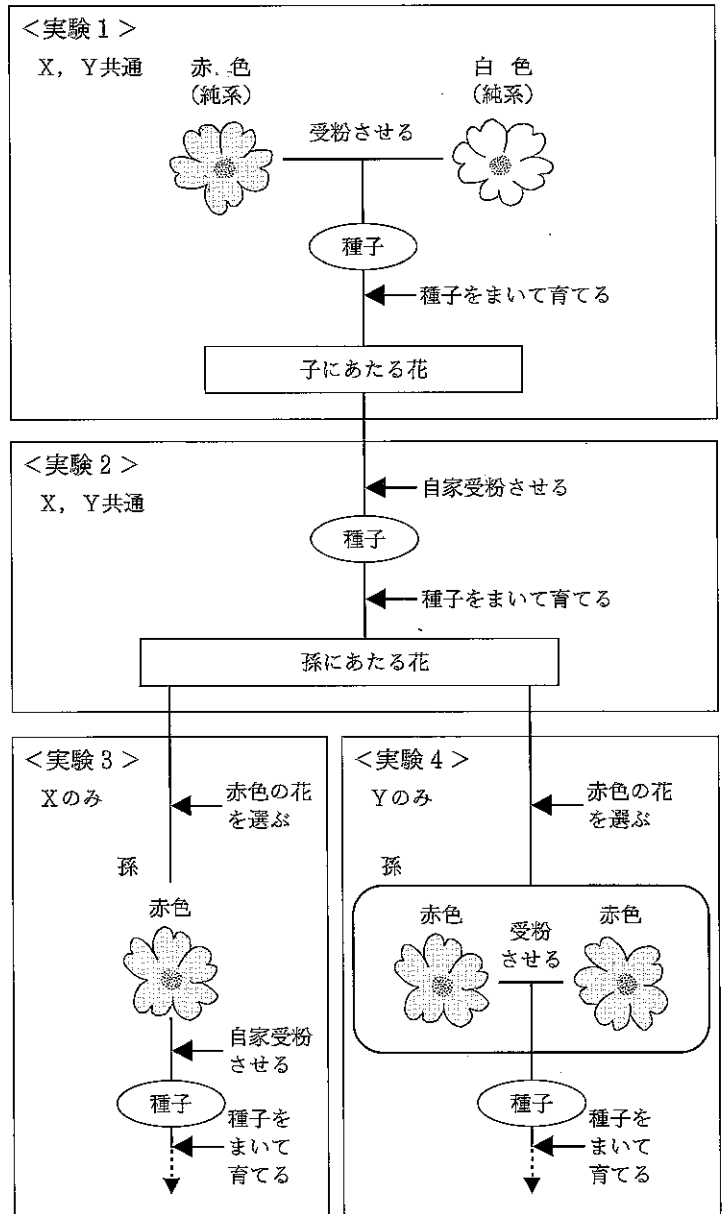
実験1でできた子にあたる花を自家受粉させた。その後、できた種子をすべてまいて育てたところ、孫にあたる花が咲いた。

(1) 花の色を決める遺伝子について説明した次の文の ①～③ に入る語句として適切なものを、あとのア～オからそれぞれ1つ選んで、その符号を書きなさい。ただし、花の色を赤色にする遺伝子をA、白色にする遺伝子をaと表すことにする。

実験1の赤色の純系のマツバボタンからつくられる生殖細胞の遺伝子は ①、白色の純系のマツバボタンからつくられる生殖細胞の遺伝子は ② となる。子にあたる花の遺伝子は ③ となる。

- ア A イ a ウ AA
- エ aa オ Aa

図2



(2) 実験2でできた孫にあたる花のうち、実験1でできた子にあたる花と同じ遺伝子の組み合わせをもつ花の割合は何%か。最も適切なものを、次のア～エから1つ選んで、その符号を書きなさい。

ア 25% イ 50% ウ 75% エ 100%

<実験3>

Xグループは、実験2でできた孫にあたる花のうち、赤色の花をすべて選び、自家受粉させた。その後、できた種子をすべてまいて育てた。

<実験4>

Yグループは、実験2でできた孫にあたる花のうち、赤色の花をすべて選び、赤色の花どうしをかけ合わせた。その後、できた種子をすべてまいて育てた。

(3) 実験3、実験4によって咲く花の色について説明した文として適切なものを、次のア～エから1つ選んで、その符号を書きなさい。

ア 実験3では花の色はすべて赤色になり、実験4では花の色は赤色と白色になる。

イ 実験3では花の色は赤色と白色になり、実験4では花の色はすべて赤色になる。

ウ 実験3、4ともに花の色はすべて赤色になる。

エ 実験3、4ともに花の色は赤色と白色になる。

III 物質と化学変化に関する次の問いに答えなさい。

1 白色粉末W～Zは、塩（塩化ナトリウム）、砂糖、デンプン、重そう（炭酸水素ナトリウム）をすりつぶしたもののいずれかである。W～Zが何かを調べるために、(a)～(c)の実験を行い、表1に結果をまとめた。

<実験>

(a) 燃焼さじに入れ、ガスバーナーで強く加熱した。

(b) (a)で火がついたら、図1のように石灰水の入った集気びんに入れ、火が消えた後、取り出して石灰水の様子を調べた。(a)で火がつかなければ集気びんには入れなかった。

(c) 水の量と白色粉末の質量をそろえて、水へのとけ方を調べた。

図1

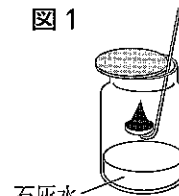


表1

白色粉末	W	X	Y	Z
実験(a)	燃えてこげた	燃えずに白い粉が残った	燃えてこげた	燃えずに白い粉が残った
実験(b)	白くにごった	—	白くにごった	—
実験(c)	とけ残りがなかった	とけ残りがあった	とけ残りがあった	とけ残りがあった

(1) 実験(b)の結果について説明した次の文の ①, ② に入る語句の組み合わせとして適切なものを、あとのア～エから1つ選んで、その符号を書きなさい。

実験(b)の結果で、石灰水が白くにごったのは、WとYに含まれていた ① が燃焼したためである。このことから、WとYは ② であることがわかる。

ア ①水素 ②無機物 イ ①水素 ②有機物 ウ ①炭素 ②無機物 エ ①炭素 ②有機物

(2) 表1の結果より、白色粉末W、Yとして適切なものを、次のア～エからそれぞれ1つ選んで、その符号を書きなさい。

ア 塩 イ 砂糖 ウ デンプン エ 重そう

(3) 実験(a)～(c)では、白色粉末XとZを区別できなかった。XとZを区別するための実験と、その結果について説明した次の文の ① に入る実験操作として適切なものを、あとのア～ウから1つ選んで、その符号を書きなさい。また、 ②, ③ に入る白色粉末として適切なものを、あとのア～エからそれぞれ1つ選んで、その符号を書きなさい。

実験(c)の水溶液に ①, Xの水溶液は色に変化しなかったが、Zの水溶液はうすい赤色になったため、Xは ②, Zは ③ である。

【①の実験操作】	ア フェノールフタレイン溶液を加えると イ BTB溶液（緑色）を加えると ウ ベネジクト液を加えて加熱すると
【②, ③の白色粉末】	ア 塩 イ 砂糖 ウ デンプン エ 重そう

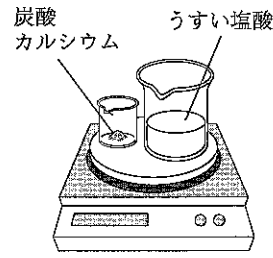
2 炭酸カルシウムとうすい塩酸を用いて、次の実験を行った。ただし、反応によってできた物質のうち、二酸化炭素だけがすべて空気中へ出ていくものとする。

<実験 1>

うすい塩酸 20.0 cm³ を入れたビーカー A~F を用意し、加える炭酸カルシウムの質量を変化させて、(a)~(c) の手順で実験を行い、結果を表 2 にまとめた。

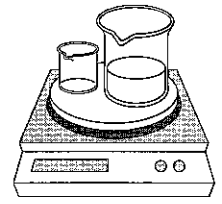
- (a) 図 2 のように、炭酸カルシウムを入れたビーカーとうすい塩酸 20.0 cm³ を入れたビーカーを電子てんびんにのせ、反応前の質量をはかった。
- (b) うすい塩酸を入れたビーカーに、炭酸カルシウムをすべて加え反応させると、二酸化炭素が発生した。
- (c) じゅうぶんに反応させた後、図 3 のように質量をはかった。

図 2



反応前

図 3



反応後

表 2

	A	B	C	D	E	F
炭酸カルシウムの質量 [g]	1.00	2.00	3.00	4.00	5.00	6.00
反応前(a)の質量 [g]	91.00	92.00	93.00	94.00	95.00	96.00
反応後(c)の質量 [g]	90.56	91.12	91.90	92.90	93.90	94.90

<実験 2>

実験 1 の後、ビーカー F に残っていた炭酸カルシウムを反応させるために、実験 1 と同じ濃度の塩酸を 8.0 cm³ ずつ、合計 40.0 cm³ 加えた。じゅうぶんに反応させた後、発生した二酸化炭素の質量を求め、表 3 にまとめた。

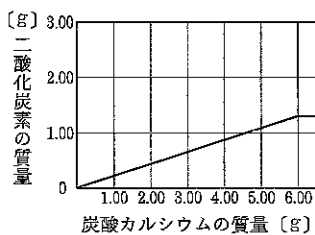
表 3

実験 1 の後、加えた塩酸の体積の合計 [cm ³]	8.0	16.0	24.0	32.0	40.0
実験 1 の後、発生した二酸化炭素の質量の合計 [g]	0.44	0.88	1.32	1.54	1.54

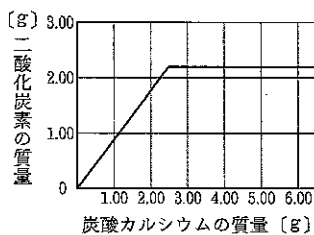
- (1) 次の文の ① に入る数値を書きなさい。また、② に入るグラフとして適切なものを、あとのア~エから 1 つ選んで、その符号を書きなさい。

実験 1 において、炭酸カルシウムの質量が 1.00 g から 2.00 g に増加すると、発生した二酸化炭素の質量は ① g 増加している。うすい塩酸の体積を 40.0 cm³ にして実験 1 と同じ操作を行ったとき、炭酸カルシウムの質量と発生した二酸化炭素の質量の関係を表したグラフは ② となる。

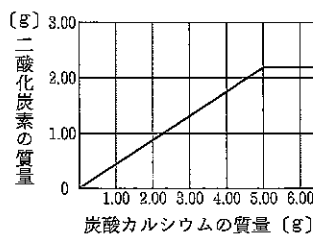
ア



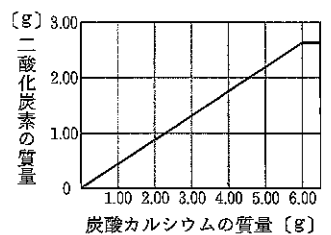
イ



ウ

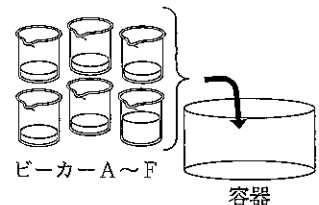


エ



- (2) 実験 1, 2 の後、図 4 のように、ビーカー A~F の中身をすべて 1 つの容器に集めたところ気体が発生した。じゅうぶんに反応した後、気体が発生しなくなり、容器には炭酸カルシウムが残っていた。この容器に実験 1 と同じ濃度の塩酸を加えて残っていた炭酸カルシウムと過不足なく反応させるためには、塩酸は何 cm³ 必要か、求めなさい。

図 4

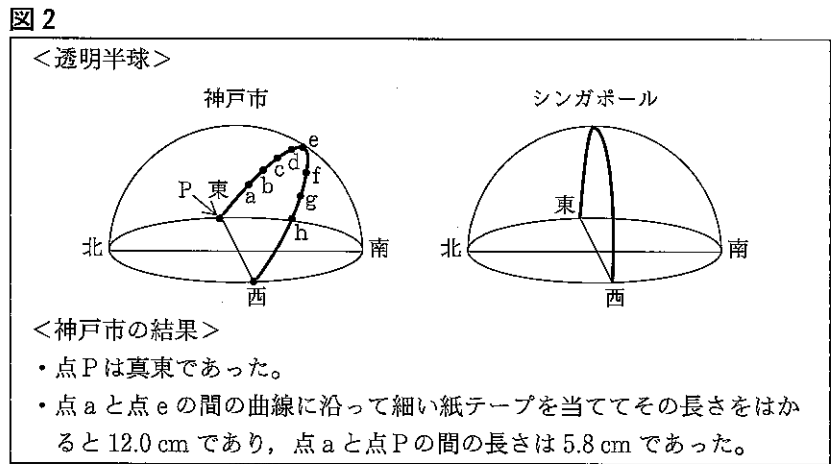
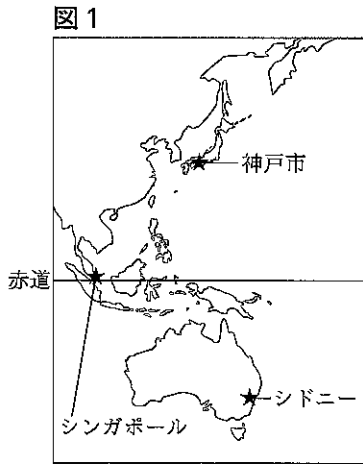


- (3) (2) において求めた体積の塩酸を図 4 の容器に加えて、残っていた炭酸カルシウムをすべて反応させた後、容器の中に残っている物質の質量として最も適切なものを、次のア~エから 1 つ選んで、その符号を書きなさい。ただし、用いた塩酸の密度はすべて 1.05 g/cm³ とする。

ア 180 g イ 188 g ウ 198 g エ 207 g

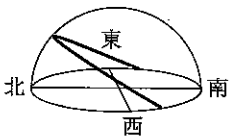
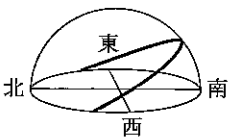
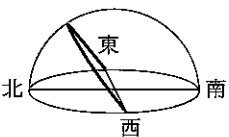
IV 地球と天体に関する次の問いに答えなさい。

1 神戸市，シンガポール，シドニーにおいて，3月の同じ日に，太陽の1日の動きを透明半球に記録して観測した。午前8時から午後3時まで1時間ごとに太陽の位置を●印で，点aから点hまで記録し，この点をなめらかな曲線で結んで，それを透明半球のふちまで延長した。曲線が透明半球のふちと交わる点のうち，東側を点Pとした。図1はそれぞれの都市の位置を，図2は，神戸市，シンガポールで観測したときの透明半球と，神戸市での結果を示している。



(1) シンガポールとシドニーでの観測結果について説明した次の文の ① に入る語句として適切なものを，あとのア～ウから1つ選んで，その符号を書きなさい。また，② に入る透明半球として最も適切なものを，あとのX～Zから1つ選んで，その符号を書きなさい。

シンガポールで記録した透明半球の点aと点eの間の長さを，神戸市と同じ方法ではかって神戸市の結果と比較すると，記録した日では，① と考えられる。また，シドニーで記録した透明半球は，② であると考えられる。

【①の語句】	ア 神戸市の長さのほうが短い イ 神戸市の長さと同じ ウ 神戸市の長さのほうが長い
【②の透明半球】	X  Y  Z 

(2) 記録した日の，神戸市の日の出の時刻として最も適切なものを，次のア～エから1つ選んで，その符号を書きなさい。

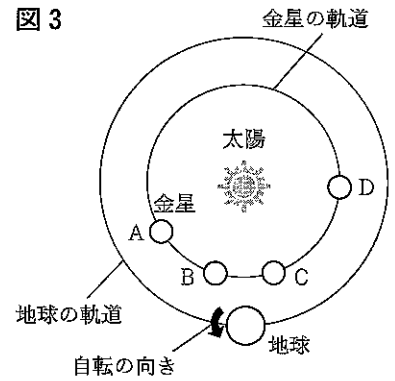
ア 午前5時47分 イ 午前5時56分 ウ 午前6時4分 エ 午前6時7分

(3) 記録した日から3か月後に，同じ観測方法で，神戸市において太陽の1日の動きを観測し，3月の結果と比較した。このことについて説明した文の組み合わせとして適切なものを，あとのア～カから1つ選んで，その符号を書きなさい。

- ① 透明半球上に引いた曲線の長さは長くなった。
- ② 日の出の位置は北寄りになり，日の入りの位置は南寄りになった。
- ③ 南中高度は高くなった。
- ④ 日の出の時刻，日の入りの時刻ともに早くなった。

ア ①と② イ ①と③ ウ ①と④ エ ②と③ オ ②と④ カ ③と④

2 図3は、静止させた状態の地球の北極の上方から見た、太陽、金星、地球の位置関係を示した模式図である。金星が図3のA、B、C、Dの位置にあるとき、日本のある地点で、金星、月、太陽の観測を行った。金星の観測には天体望遠鏡も用いた。



- (1) 太陽のまわりを回る天体について説明した文として適切なものを、次のア～エから1つ選んで、その符号を書きなさい。
- ア 金星の公転周期は、地球の公転周期より長い。
 - イ 地球の北極の上方から見ると、月は地球のまわりを時計回りに公転している。
 - ウ 太陽、月、地球の順に、一直線に並ぶとき、月食が起こる。
 - エ 月は真夜中でも観測できるが、金星は真夜中には観測できない。

(2) 図3のA、B、C、Dの位置での、金星の見え方について説明した文の組み合わせとして適切なものを、あとのア～カから1つ選んで、その符号を書きなさい。

- ① A、B、C、Dで、金星の欠け方が最も大きいのはDである。
- ② B、Dで、天体望遠鏡を同倍率にして金星を観測すると、Bの金星のほうが大きく見える。
- ③ A、Cでは、金星のかがやいて見える部分の形は同じである。
- ④ C、Dでは、明け方の東の空で金星が観測できる。

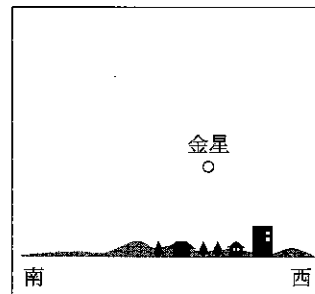
ア ①と② イ ①と③ ウ ①と④ エ ②と③ オ ②と④ カ ③と④

(3) 表は、図3のA、Bそれぞれの位置に金星がある日の、太陽と金星が沈んだ時刻を記録したものである。図4は、図3のAの位置に金星がある日の、日没直後の西の空のスケッチである。また、Bの位置に金星がある日は、日没直後に、金星と月が隣り合って観測できた。Bの位置に金星がある日の、日没直後の金星と月の位置、月の形を示すものとして最も適切なものを、あとのア～エから1つ選んで、その符号を書きなさい。

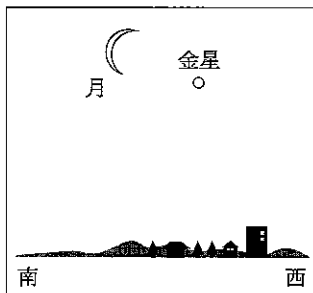
表

	太陽が沈んだ時刻	金星が沈んだ時刻
A	午後6時28分	午後8時16分
B	午後5時14分	午後5時49分

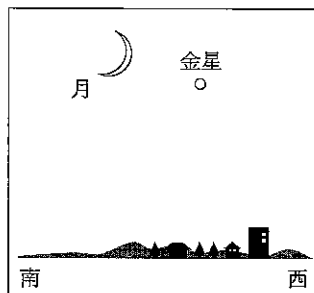
図4



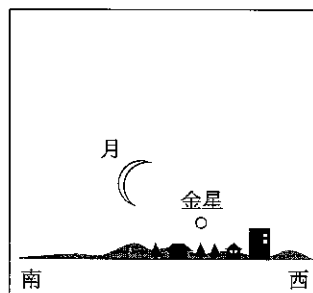
ア



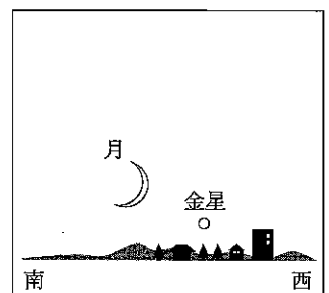
イ



ウ



エ



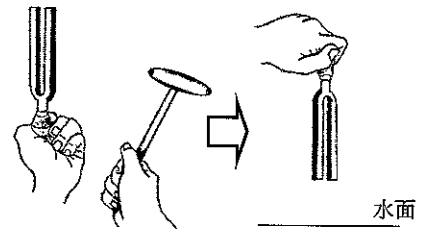
V 音の伝わり方と光の進み方に関する次の問いに答えなさい。

1 音の伝わり方について調べるために、次の実験を行った。

<実験1>

図1のように、おんさをたたいて振動させて水面に軽くふれさせたときの、おんさの振動と水面のようすを観察した。

図1



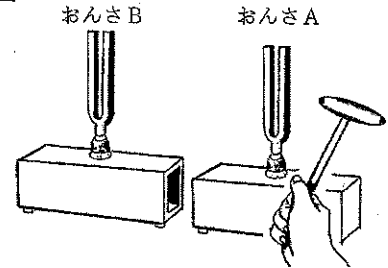
<実験2>

4つのおんさA～Dを用いて(a)～(c)の実験を行った。

(a) おんさをたたいて音を鳴らすと、おんさDの音は、おんさB、おんさCの音より高く聞こえた。

(b) 図2のように、おんさAの前におんさBを置き、おんさAだけをたたいて音を鳴らして、おんさBにふれて振動しているかを確認した。おんさBをおんさC、おんさDと置き換え、おんさBと同じ方法で、それぞれ振動しているかを確認した。おんさBは振動していた。

図2



(c) 図3のように、おんさAをたたいたときに発生した音の振動のようすを、コンピュータで表示した。横軸の方向は時間を表し、縦軸の方向は振動の振れ幅を表す。図4は、おんさAと同じ方法で、おんさB～Dの音の振動をコンピュータで表示させたもので、X～ZはおんさB～Dのいずれかである。コンピュータで表示される目盛りのとり方はすべて同じである。

図3

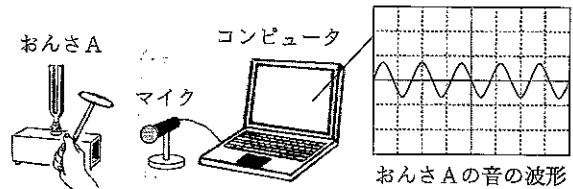
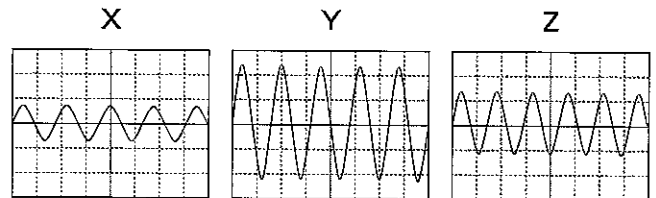


図4



(1) 実験1での、おんさの振動と水面のようすについて説明した文の組み合わせとして適切なものを、あとのア～エから1つ選んで、その符号を書きなさい。

- ① おんさの振動によって水面が振動し、波が広がっていく。
- ② おんさの振動によっておんさの近くの水面は振動するが、波は広がらない。
- ③ おんさを強くたたいたときのほうが、水面の振動は激しい。
- ④ おんさの振動が止まった後でも、おんさの近くの水面は振動し続けている。

ア ①と③ イ ①と④ ウ ②と③ エ ②と④

(2) おんさAの音は、5回振動するのに、0.0125秒かかっていた。おんさAの音の振動数は何Hzか、求めなさい。

(3) おんさB～Dは、図4のX～Zのどれか。X～Zからそれぞれ1つ選んで、その符号を書きなさい。

