


令和 8 年度

兵庫県公立高等学校学力検査問題

社 会

注 意

- 1 「開始」の合図があるまで開いてはいけません。
- 2 「開始」の合図で、1 ページから12ページまで問題が印刷されていることを確かめなさい。
- 3 解答用紙の左上の欄に受検番号を書きなさい。
- 4 解答用紙の  の得点欄には、何も書いてはいけません。
- 5 答えは、全て解答用紙の指定された解答欄に書きなさい。
- 6 問題は3題で、12ページまであります。
- 7 「終了」の合図で、すぐ鉛筆を置きなさい。
- 8 解答用紙は、机の上に置いて、退室しなさい。

I 世界や日本の地理に関するあとの問いに答えなさい。

1 図1に関して、あとの問いに答えなさい。

(1) 図1の[A]の都市とほぼ同緯度にある日本の都市を、次のア～エから1つ選んで、その符号を書きなさい。

- ア 札幌 イ 仙台
ウ 神戸 エ 鹿児島

(2) ヨーロッパ州の気候について述べた次の文の [i], [ii] に入る語句の組み合わせとして最も適切なものを、あとのア～エから1つ選んで、その符号を書きなさい。

ヨーロッパ州は、[i] に向かって流れる北大西洋海流と、その上空を吹く [ii] の影響で、気候は比較的温暖である。

- ア i 高緯度から低緯度 ii 偏西風
イ i 高緯度から低緯度 ii 季節風
ウ i 低緯度から高緯度 ii 偏西風
エ i 低緯度から高緯度 ii 季節風

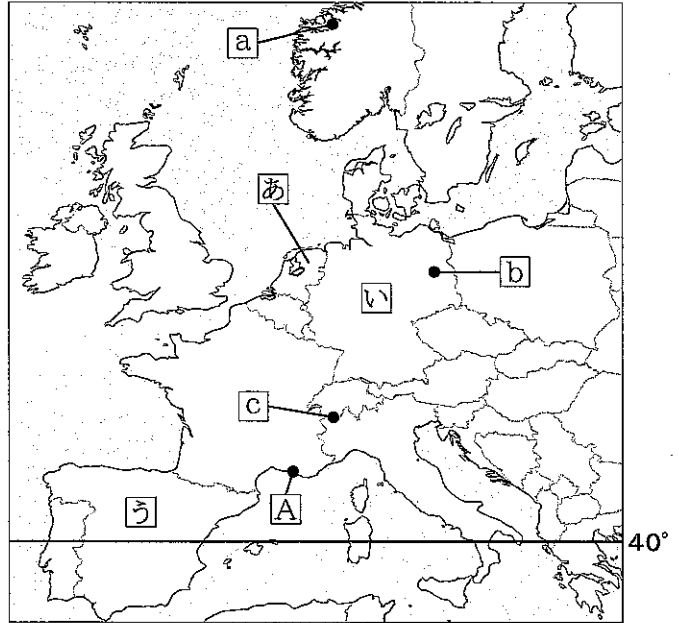
(3) 資料1は、図1の[a]～[c]のいずれかの地点の写真である。また、次の文X、Yのいずれかは資料1の地形の特徴について述べている。資料1の地点と、その地形の特徴について述べた文の組み合わせとして適切なものを、あとのア～カから1つ選んで、その符号を書きなさい。

X 奥行きのある入り江で両側が切り立った崖となった地形である。
Y 4000m級のけわしい山々が東西につらなった地形である。


- ア [a]-X イ [b]-X ウ [c]-X エ [a]-Y オ [b]-Y カ [c]-Y

(4) 図1の国[あ]～[う]について、資料2は、2022年のそれぞれの国の国土面積に占める耕地、樹園地、牧場・牧草地、森林の割合を示している。また、次の文X～Zは、それぞれの国の気候と農業について述べている。資料2と次の文のX～Zは同じ国を示している。その組み合わせとして最も適切なものを、あとのア～カから1つ選んで、その符号を書きなさい。

図1



資料1



資料2

	耕地	樹園地	牧場・牧草地	森林	その他
X	23.4	10.2	19.8	37.2	9.4
Y	33.4	0.6	13.5	32.7	19.8
Z	29.7	1.2	22.7	11.0	35.4

(『データブック オブ・ザ・ワールド』より作成)

X 夏は乾燥し、オリーブやオレンジなどの栽培が盛んである。
Y 年間を通して安定した降水量があり、小麦の生産と家畜の飼育を組み合わせた農業が盛んである。
Z 冷涼な気候で、乳牛を飼育しチーズなど乳製品の生産が盛んである。

- ア [あ]-X [い]-Y [う]-Z イ [あ]-X [い]-Z [う]-Y ウ [あ]-Y [い]-X [う]-Z
エ [あ]-Y [い]-Z [う]-X オ [あ]-Z [い]-X [う]-Y カ [あ]-Z [い]-Y [う]-X

- (5) 資料3はベルギー、フランス、イギリス、ポーランドのEU域内の国々への輸出が各国の輸出総額に占める割合、資料4は資料3と同じ国々のEU域内の国々からの輸入が各国の輸入総額に占める割合を示している。これらについて述べたあとの文X、Yについて、その正誤の組み合わせとして適切なものを、あとのア～エから1つ選んで、その符号を書きなさい。

資料3 (%)

	2012年	2017年	2022年
ベルギー	72.4	72.0	68.3
フランス	60.1	58.7	55.6
イギリス	53.4	47.4	43.4
ポーランド	78.2	79.6	75.7

(『世界国勢図会』より作成)

資料4 (%)

	2012年	2017年	2022年
ベルギー	68.4	64.3	59.2
フランス	68.6	69.8	61.4
イギリス	49.3	51.5	37.9
ポーランド	70.4	71.3	64.0

(『世界国勢図会』より作成)

X 資料中の国の中で、EUを離脱した国のEU域内との輸出、輸入の割合は、その他の国と比べてどの年も最も高くなっている。

Y 資料中の国の中で、EU域内との輸出、輸入の割合について、2012年と2022年の差が、それぞれ最も大きいのは、EU加盟が最も遅かった国である。

ア X-正 Y-正 イ X-正 Y-誤 ウ X-誤 Y-正 エ X-誤 Y-誤

- (6) 資料5は日本とEUの経済連携協定(2019年発効)の一部、資料6は日本からEUへの輸出品3品目とその輸出額および総額、資料7は日本のEUからの輸入品3品目とその輸入額および総額を示している。これらについて述べた文として適切なものを、あとのア～エから1つ選んで、その符号を書きなさい。

資料5

【日本とEUの経済連携協定の一部】	
日本からの輸出	日本への輸入
<ul style="list-style-type: none"> ・乗用車の関税を8年目に撤廃 ・酒類のすべての関税を即時撤廃 ・肉類のうち牛肉の関税を即時撤廃 	(乗用車は協定発効前から関税なし) <ul style="list-style-type: none"> ・酒類のうちワインは関税を即時撤廃 ・肉類のうち牛肉、豚肉の関税を維持

(外務省Webページより作成)

資料6 (億円)

	2015年	2019年	2023年
乗用車	12,080	15,482	19,473
酒類	55	92	144
肉類	11	21	44
輸出総額	79,851	89,553	103,743

(『貿易統計』より作成)

資料7 (億円)

	2015年	2019年	2023年
乗用車	8,750	10,816	11,222
酒類	1,811	2,108	2,284
肉類	1,657	2,126	2,066
輸入総額	86,250	97,222	114,275

(『貿易統計』より作成)

ア 乗用車については、協定発効後も8年目になるまでは輸出に関税がかかり、資料のどの年においても輸入額が輸出額よりも大きくなっている。

イ 酒類については、協定で輸出入すべての関税が即時撤廃されたわけではないが、2015年と比べて2023年は輸出入ともに金額が増加している。



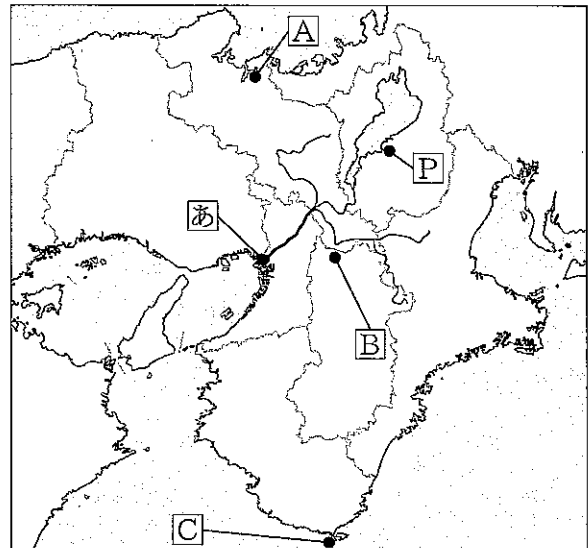
ウ 肉類については、協定で牛肉の輸入は関税が撤廃されており、資料のどの年においても輸入額が輸出額よりも大きくなっている。

エ 協定が発効され、2015年と比べ2023年には輸出総額、輸入総額がともに増加しており、2023年の輸入総額に比べ2023年の輸出総額は大きくなっている。

2 図1に関して、あとの問いに答えなさい。

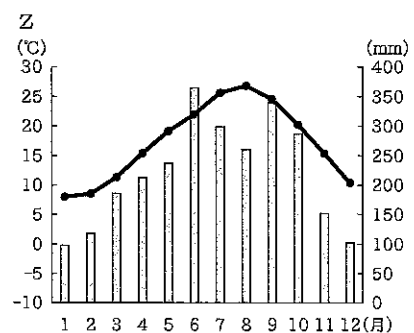
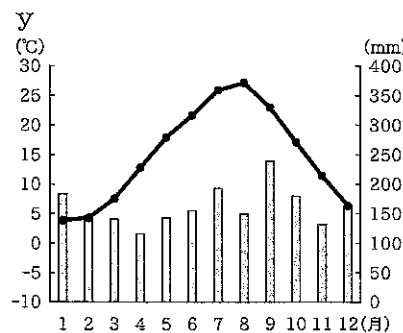
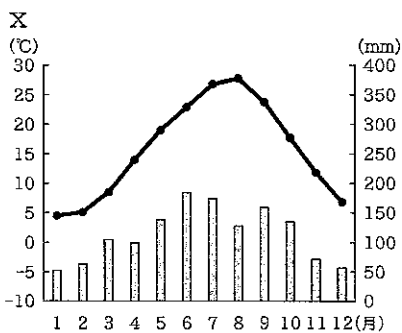
(1) 図1の「あ」の地点を上空から見た淀川水系の景観として適切なものを、次のア～ウから1つ選んで、その符号を書きなさい。

図1



(Google Mapsより作成)

(2) 次のx～zのグラフは、図1の「A～C」のいずれかの地点の月ごとの気温と降水量を示している。「A～C」とx～zの組み合わせとして適切なものを、あとのア～カから1つ選んで、その符号を書きなさい。



(気象庁Webページより作成)

ア A-x B-y C-z イ A-x B-z C-y ウ A-y B-x C-z
 エ A-y B-z C-x オ A-z B-x C-y カ A-z B-y C-x

(3) 資料1は、近畿地方の府県ごとの2023年の米、野菜、果実、畜産についての農業産出額を示している。また、資料2は、近畿地方の府県ごとの2023年の製造業、卸売業・小売業、宿泊業・飲食サービス業の売上高を示している。資料1と資料2のD～Iは同じ府県を示している。兵庫県と京都府の組み合わせとして適切なものを、次のア～カから選んで、その符号を書きなさい。

ア 兵庫県-E 京都府-D
 イ 兵庫県-E 京都府-G
 ウ 兵庫県-F 京都府-H
 エ 兵庫県-F 京都府-D
 オ 兵庫県-I 京都府-G
 カ 兵庫県-I 京都府-H

資料1 (億円)

	米	野菜	果実	畜産
奈良県	87	113	83	65
D	60	125	774	41
E	52	149	74	18
F	316	116	10	112
G	164	299	22	175
H	252	158	68	584
I	441	386	44	728

(『生産農業所得統計』より作成)

資料2 (百億円)

	製造業	卸売業・小売業	宿泊業・飲食サービス業
奈良県	199	207	13
D	308	228	13
E	2,179	6,768	154
F	907	321	19
G	646	956	52
H	1,203	432	27
I	1,825	1,737	73

(『経済構造実態調査』より作成)

(4) 図2は、図1の[P]の地域の地形図である。図2を見て、あとの問いに答えなさい。

図2



(2万5千分の1地形図「近江八幡」(2017年)を一部改変)

① 水路によってつながっている[A]地点と[B]地点の地形図上の直線距離の長さを測ると約9.5cmである。実際の距離に最も近いものを、次のア～エから1つ選んで、その符号を書きなさい。

ア 1.2km イ 2.4km ウ 3.6km エ 4.8km

② 図2から読み取れることとして適切でないものを、次のア～エから1つ選んで、その符号を書きなさい。

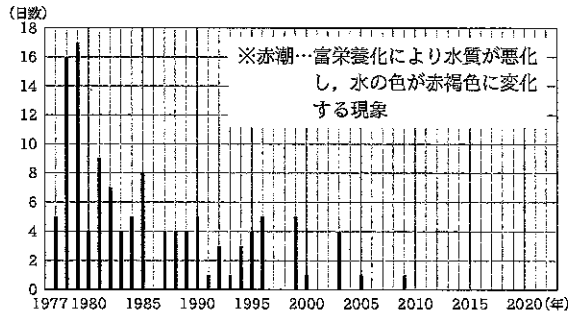
- ア 蛇砂川は長田町付近で鉄道と交差し、西の湖に向かって流れている。
- イ 図書館の東側にある八幡宮の周辺には、神社より寺院が多くみられる。
- ウ 西の湖の南側には、区画された水田が広がっている。
- エ 八幡宮と、鶴翼山(八幡山)の山頂付近にある城跡との標高差は250m以上ある。

- ③ 資料3は「滋賀県琵琶湖の富栄養化の防止に関する条例」および「琵琶湖の保全及び再生に関する法律」の一部、資料4は琵琶湖の赤潮発生日数、資料5は滋賀県の下水道普及率とその全国平均を示している。これらの資料から読み取れることとして適切なものを、あとのア～エから1つ選んで、その符号を書きなさい。

資料3

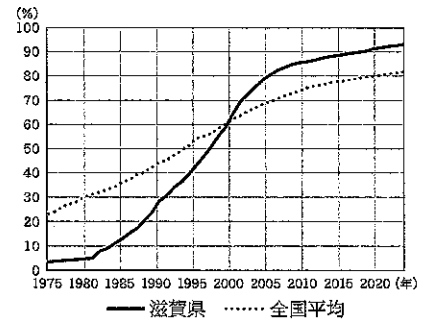
【条例X：滋賀県琵琶湖の富栄養化の防止に関する条例】 1979（昭和54）年公布 1980（昭和55）年施行
 （第1条）この条例は、・・・（中略）排出水の排出規制その他の措置を講じることにより、琵琶湖の環境の保全を図ることを目的とする。
 （第17条）何人も、県内において、りんを含む家庭用合成洗剤を使用してはならない。
 【法律Y：琵琶湖の保全及び再生に関する法律】 2015（平成27）年公布・施行
 （第10条）国及び関係地方公共団体は、琵琶湖の水質の保全及び改善が近畿圏における住民の生活及び事業活動にとって極めて重要であることに鑑み、・・・（中略）下水道、浄化槽、農業集落排水施設、農業用排水施設等の整備及び管理その他必要な措置を講ずるよう努めるものとする。

資料4







(滋賀県琵琶湖環境科学研究センターWebページより作成)

資料5




(『令和6年度滋賀県の下水道事業』より作成)

- ア 条例Xが施行される前の1970年代の終わりごろは赤潮発生のピークで、滋賀県の下水道普及率は10%を超える程度であり、全国平均にも及ばなかった。
 イ 条例Xにより排出水の規制が強化され、滋賀県の下水道普及率も上昇し、条例施行の25年後には滋賀県の下水道普及率は70%を上回り、赤潮も年間5日以下の発生日数となっていた。
 ウ 法律Yが施行される前の2010年には滋賀県の下水道普及率が80%を超えたが、赤潮は年に5日以上発生し続けていたため、法律Yで琵琶湖の水質の保全と改善のための措置を行うことが定められた。
 エ 法律Yは2010年代前半の滋賀県の下水道普及率の低下と赤潮が年5日以上発生している事態を受けて、下水道等の整備及び管理について定められた。



- ④ 図2の  部分は湿地であり、ヨシ群落となっている。資料6は図2の  地点の写真である。資料7は「滋賀県琵琶湖のヨシ群落の保全に関する条例」の一部である。資料6、7から読み取れる内容に関して述べたあとの文の ,  に入る語句の組み合わせとして最も適切なものを、あとのア～エから1つ選んで、その符号を書きなさい。

資料6



資料7

【滋賀県琵琶湖のヨシ群落の保全に関する条例】 1992（平成4）年公布・施行
 県民すべての願いである碧い琵琶湖を取り戻すためには、今日までの湖に流入する汚濁の原因となる物質を削減する努力に加えて、湖自身の健全な自然の営みを重視し、その維持と回復に努めることが求められる。今一度、私たちも自然界の一員であるとの認識に立ち返り、県民一人ひとりが、自然にやさしい暮らしを心がけ、自然の生態系の仕組みに目を向けていかなければならない。
 その第一歩として、・・・（中略）湖辺のヨシ群落の保全を進めるものである。
 ヨシ群落は、・・・（中略）湖岸の浸食を防止し、湖辺の水質保全にも役立つなど優れた自然の働きを有している。

この条例では、  をめざすことが重要とされており、水質を  働きがあるヨシ群落について定められている。

- ア i 多文化共生 ii 低下させる イ i 多文化共生 ii 保全する
 ウ i 人と自然との共生 ii 低下させる エ i 人と自然との共生 ii 保全する

II 歴史に関するあとの問いに答えなさい。

1 次の会話文は、日本の産業と交通について学習しているミズホさんと先生の会話である。あとの問いに答えなさい。

先生：古代、日本では^a和同開珎という貨幣が発行されましたが、その後はどう変わっていききましたか。

ミズホ：平安時代の終わりには **A** が兵庫の港を整備して日宋貿易を始めました。この貿易で宋から銅銭が入ってきました。

先生：その通りです。鎌倉時代や室町時代には銅銭が大量に輸入され、貨幣経済が広がりました。この頃の商人は、同業者団体をつくり生産や販売を独占するようになりましたね。

ミズホ：はい。^b戦国時代に入ると、戦国大名の中にはこのような同業者団体を排除し、市場での税を免除して自由な取引を推進する者が現れました。^c江戸時代にも、産業を発達させる取組はあったのでしょうか。

先生：そうですね。江戸時代には^d五街道をはじめとする主要な道路が整備され、また、3代将軍徳川家光の時代に **B** が制度化されたことで、産業や交通の発達につながりました。^e海運も発達して、全国の物資が江戸や大阪に集まりました。こうした取り引きには金融の発達が必要になりますね。

ミズホ：はい。江戸時代には貨幣制度も整えられ、^f金・銀・銅の三貨が使用され、経済の発達につながりました。

先生：このように、日本の産業と交通は結びつきながら発達してきたことが分かりますね。

ミズホ：はい。今後は、私が住む地域の産業と交通の発達について調べてみようと思います。

資料1

当所中楽市として仰せ付けらるるの上は、諸座・諸役・諸公事等、ことごとく免許の事

資料2

大名小名在江戸の交代相定むる所也。毎年夏四月中、参勤致すべし

資料3



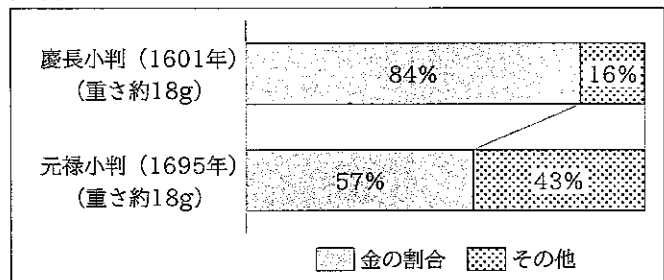
左 中山道美のち
右 東海道いせみち

資料4 1852(嘉永5)年「妙栄丸」の積荷売買

銘柄	積み入れ 数量	売却	
		数量	売却先(港)
にしん粕	1312本	792本	瓜屋 忠七(兵庫)
		220本	瓜屋 忠七(兵庫)
		300本	讀岐屋 佐七(大阪)
にしん	2000束	2000束	瓜屋 忠七(兵庫)
数の子	47本	47本	油屋 七兵衛(下関)
しら子	42本	42本	瓜屋 忠七(兵庫)

(兵庫津ミュージアム資料より作成)

資料5 小判に含まれる金の割合



(日本銀行金融研究所貨幣博物館資料より作成)

(1) 下線部 a に関して、この貨幣がつくられる以前の天武天皇の時代の頃につくられた銅銭を漢字 3 字で書きなさい。

(2) 会話文中の **A** に入る人物の名前と **B** に入る制度を示した資料の組み合わせとして適切なものを、次のア～エから 1 つ選んで、その符号を書きなさい。ただし、資料 1、2 のいずれかが **B** に入る制度を示している。

- ア A 平清盛 B 資料1 イ A 足利義満 B 資料1
ウ A 平清盛 B 資料2 エ A 足利義満 B 資料2

- (3) 下線部 b に関して、16世紀の世界の様子について述べた文として適切なものを、次のア～エから1つ選んで、その符号を書きなさい。
- ア 中国全土を支配したフビライ＝ハンが、大都を中心とした交通路を築いた。
 イ 朝鮮を建国した李成桂が、日本に通交と倭寇の取り締まりを求めた。
 ウ 皇帝に即位したナポレオンが、イギリスとの貿易を禁じた経済封鎖をおこなった。
 エ スペインの援助を受けたマゼラン一行が、初めて世界一周を成し遂げた。

- (4) 下線部 c に関して、次の文の i ~ iii に入る語句の組み合わせとして適切なものを、あとのア～カから1つ選んで、その符号を書きなさい。

積極的な商業政策を進めた老中の i は、 ii から銅や俵物とよばれる海産物を海外へと輸出した。また、幕府財政の立て直しと安定をめざして株仲間の iii が、政治の乱れや天明のききんを背景に批判が高まり、 i は老中を退いた。

- ア i 田沼意次 ii 長崎 iii 解散を命じた イ i 田沼意次 ii 長崎 iii 結成をすすめた
 ウ i 田沼意次 ii 博多 iii 解散を命じた エ i 松平定信 ii 長崎 iii 結成をすすめた
 オ i 松平定信 ii 博多 iii 解散を命じた カ i 松平定信 ii 博多 iii 結成をすすめた

- (5) 下線部 d に関して、資料3は東海道と中山道の分岐・合流地に建てられている道標である。この道標が建てられている地点より西側の地域でおこったできごととして適切なものを、次のア～エから1つ選んで、その符号を書きなさい。
- ア 豊臣秀吉没後におこった大きな合戦で、徳川家康が石田三成に勝利した。
 イ 町奉行所の元役人であった大塩平八郎が、救民を求めて挙兵した。
 ウ 大老であった井伊直弼が、安政の大獄に反発した元水戸藩士らに暗殺された。
 エ 五稜郭に立てこもる旧幕府軍が、新政府に降伏した。

- (6) 下線部 e に関して、資料4は北前船「妙栄丸」が兵庫－松前（蝦夷地）間を往復し、蝦夷地で仕入れた商品をそれぞれの港で売却した記録である。この資料から読み取れる内容について述べた次の文 X、Y について、その正誤の組み合わせとして適切なものを、あとのア～エから1つ選んで、その符号を書きなさい。

X 蝦夷地で仕入れたにしん粕や数の子などを、下関・兵庫・大阪の港で売っている様子から、航路は日本海と大阪を結ぶ西まわり航路であったと考えられる。
 Y 大阪の讃岐屋佐七、下関の油屋七兵衛に売った商品以外は、すべて兵庫の瓜屋忠七に売却したことがわかる。

- ア X-正 Y-正 イ X-正 Y-誤 ウ X-誤 Y-正 エ X-誤 Y-誤

- (7) 下線部 f に関して、資料5に興味を持ったミズホさんは、慶長小判から元禄小判へと変更された背景や社会に及ぼした影響についてまとめた。次の文の i ~ iii に入る語句の組み合わせとして適切なものを、あとのア～カから1つ選んで、その符号を書きなさい。

財政難であった幕府は、慶長小判に含まれていた金の比率を i ，新たに元禄小判をつくり、貨幣の発行量を ii 。貨幣1枚あたりの価値が変わったことで物価が iii ，人々の生活に影響を与えた。


- ア i 増やして ii 増やした iii 下がり イ i 増やして ii 減らした iii 上がり
 ウ i 増やして ii 減らした iii 下がり エ i 減らして ii 増やした iii 上がり
 オ i 減らして ii 増やした iii 下がり カ i 減らして ii 減らした iii 上がり

2 次の文は、「兵庫県ゆかりの人物」についてまとめた文章である。あとの問いに答えなさい。

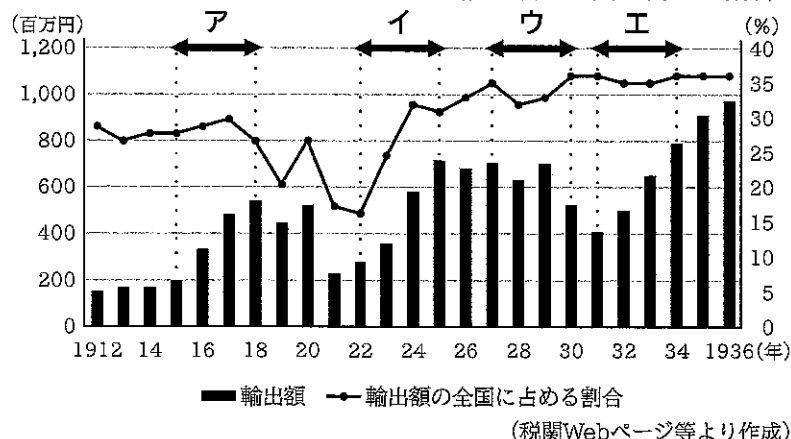
〔A〕は、長州藩に生まれ、若いころは尊王攘夷の考えを持っていたが、やがて開国の必要性を理解し、日本の近代化に大きく貢献した。明治時代には、兵庫県の初代県知事として神戸港の発展に尽力するなど、兵庫県の発展に力を注いだ。その後、a岩倉使節団の一員として欧米諸国を視察し、政治や経済のしくみを学んだ。帰国後は、日本の憲法づくりに深く関わり、立憲政治の基礎を築くとともに、内閣総理大臣を4回務めるなど、長く国政の中心として活躍した。

また、b工業の発展や殖産興業の推進にも尽力し、日本の産業の土台づくりに貢献した。さらに、1900年には近代的な政党政治の確立をめざして〔B〕を結成し、本格的な政党内閣の実現に道を開いた。のちに、c貨幣である千円札の肖像にも選ばれた。

資料1



資料2 神戸港における輸出額および輸出額の全国に占める割合



資料3

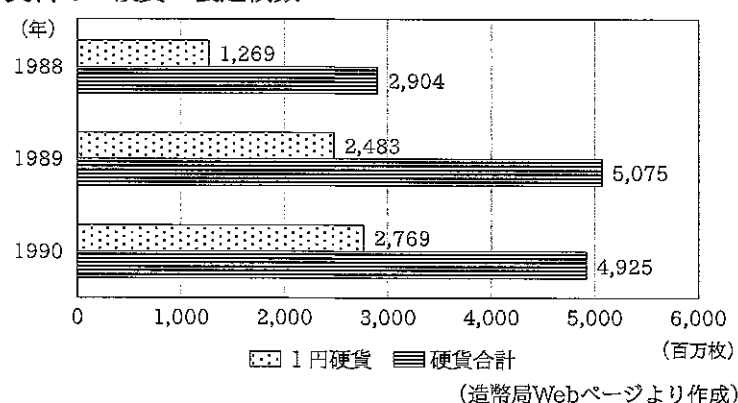
(万円)		
	品名	輸出額
1位	綿織糸	3,981
2位	肌衣	2,028
3位	燐寸	1,725

↓

	品名	輸出額
1位	汽船	6,389
2位	綿織糸	4,832
3位	銅	4,592

※汽船は、蒸気機関を動力とする船
(税関Webページより作成)

資料4 硬貨の製造枚数



(1) 文中の〔A〕には名前が入り、〔B〕には政党名が入る。〔A〕、〔B〕に入る語句の組み合わせとして適切なものを、次のア～エから1つ選んで、その符号を書きなさい。

- ア A 伊藤博文 B 立憲改進黨 I A 大隈重信 B 立憲改進黨
ウ A 伊藤博文 B 立憲政友会 エ A 大隈重信 B 立憲政友会

(2) 下線部aに関して、次の問いに答えなさい。

① この派遣よりも以前におこったできごとについて述べた文として適切なものを、次のア～エから1つ選んで、その符号を書きなさい。

- ア 領事裁判権の撤廃などを内容とする日英通商航海条約が調印された。
イ 政府の国策の基本を示すために五箇条の御誓文が公布された。
ウ 国会の設立を求めた民撰議院設立建白書が政府に提出された。
エ 日本最初の衆議院議員総選挙が実施された。

- ② Aとともにこの一員であった人物として適切なものを、次のア～エから1つ選んで、その符号を書きなさい。

ア 大久保利通 イ 西郷隆盛 ウ 板垣退助 エ 坂本龍馬

- (3) 下線部bに関して、次の問いに答えなさい。

- ① 資料1は、日本国内で繊維製品をつくっている様子を描いたものである。次の文の [i] ~ [iii] に入る語句の組み合わせとして適切なものを、あとのア～カから1つ選んで、その符号を書きなさい。

江戸時代の日本では、資料1のような [i] という生産方式が始まったところであったが、世界で最初に産業革命を成し遂げ、「世界の工場」とよばれた [ii] では、機械による大量生産が始まっていた。しかし、貧富の格差や労働問題などが生じたことを背景に、マルクスらは平等な社会の実現をめざす [iii] の考えを主張した。

- | | | | | | | |
|---|---|---------|----|------|-----|------|
| ア | i | 問屋制家内工業 | ii | アメリカ | iii | 資本主義 |
| イ | i | 問屋制家内工業 | ii | イギリス | iii | 社会主義 |
| ウ | i | 問屋制家内工業 | ii | イギリス | iii | 資本主義 |
| エ | i | 工場制手工業 | ii | アメリカ | iii | 社会主義 |
| オ | i | 工場制手工業 | ii | アメリカ | iii | 資本主義 |
| カ | i | 工場制手工業 | ii | イギリス | iii | 社会主義 |

- ② 次の文P～Rについて、古いものから順に並べたものを、あとのア～カから1つ選んで、その符号を書きなさい。

P 労働条件の改善をめざした工場法が制定された。
 Q 新橋（東京）－横浜間に初めての鉄道が開通した。
 R 官営の八幡製鉄所が建設され、操業を開始した。

- | | | | | | |
|---|-------|---|-------|---|-------|
| ア | P-Q-R | イ | P-R-Q | ウ | Q-P-R |
| エ | Q-R-P | オ | R-P-Q | カ | R-Q-P |

- ③ 資料2のグラフは、大正から昭和初期にかけての神戸港における輸出額および輸出額の全国に占める割合を示したものである。また、資料3は、資料2のア～エのいずれかの期間内における連続する2年間の、神戸港における輸出品上位3品目と輸出額を示している。資料2のそれぞれの期間内のできごとについて述べた次の文を参考に、資料3の2年間が含まれる期間として適切なものを、資料2のア～エから1つ選んで、その符号を書きなさい。

- ・アの期間内に第一次世界大戦がおこった。
- ・イの期間内に関東大震災がおこった。
- ・ウの期間内に世界恐慌がおこった。
- ・エの期間内に円安が進んだ。

- (4) 下線部cに関して、資料4は硬貨の製造枚数の推移を表したものである。1988年から1989年にかけて1円硬貨の製造枚数と硬貨の製造枚数の合計が大きく増加している。その要因となったこととして最も適切なものを、次のア～エから1つ選んで、その符号を書きなさい。

ア 高度経済成長の始まり イ 消費税の導入 ウ バブル経済の崩壊 エ 石油危機

III 政治や経済のしくみに関するあとの問いに答えなさい。

1 次のサクラさんと先生の会話を読み、あとの問いに答えなさい。

サクラ：社会の授業で経済について学びました。経済が私たちの暮らしとどう関わっているのかが気になります。現代経済の特徴について教えてください。

先生：現代経済は以前と比べて規模が大きくなりました。今では、貿易や投資を通じて世界の国々が経済的につながっている状態です。

サクラ：一つの商品を生産するのに、いろいろな国の企業が関わっているのですね。

先生：その通りです。a 国境を越えて企業が分業と交換を行うことでグローバルな経済が形づくられ、遠く離れた世界のできごとが私たちの暮らしに影響するようになりました。

サクラ：グローバル化が進むことで、私たちの暮らしも便利になりました。例えば、海外の商品もインターネットなどを通じて手軽に購入できますし、お金の支払い方法も多様化していますよね。

先生：そうですね。現金支払いで使用する紙幣や硬貨は、b 政府やc 中央銀行が発行しています。現金を使わないd キャッシュレス決済としては、クレジットカードによる支払いなどがありますね。

サクラ：私の姉は、電子マネーによるキャッシュレス決済をよく利用しているようです。

先生：買い物の際には利用する支払い方法の仕組みをよく理解し、自立した消費者になってほしいと思います。

(1) 下線部aに関して、次の問いに答えなさい。

- ① 分業と交換について述べた次の文X、Yについて、その正誤の組み合わせとして適切なものを、あとのア～エから1つ選んで、その符号を書きなさい。

X 人や企業が役割を分担して、それぞれが得意な物を専門的に生産することを分業という。
Y 現代経済は分業と交換により効率的になり、人々の便利で豊かな生活が成り立っている。

ア X-正 Y-正 イ X-正 Y-誤 ウ X-誤 Y-正 エ X-誤 Y-誤

- ② 現代の企業に関して述べた文として適切なものを、次のア～エから1つ選んで、その符号を書きなさい。

ア 個人商店や農家などは自営業であり、私企業の一つとして分類されない。
イ 日本では、大企業の数が企業全体の約3割を占め、従業員数も全体の5割を超えている。
ウ 株式会社が倒産した場合、株主は投資した金額以上の負担を負うこともある。
エ 株主総会では企業の基本方針を決めたり、経営者を選任することができる。

- (2) 下線部bに関して、政府の収入である税について述べた次の文の [i]、[ii] に入る語句の組み合わせとして適切なものを、あとのア～エから1つ選んで、その符号を書きなさい。

所得税は [i] に分類され、累進課税であるため、納税後の所得格差を [ii] する効果がある。

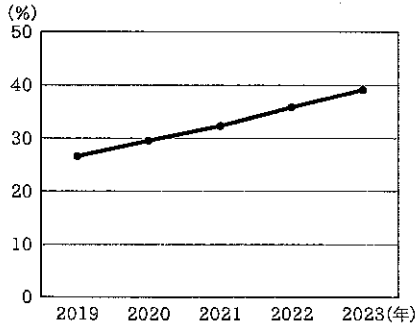
ア i 直接税 ii 大きく イ i 間接税 ii 大きく
ウ i 直接税 ii 小さく エ i 間接税 ii 小さく

- (3) 下線部cに関して、日本の中央銀行である日本銀行が行う一般的な公開市場操作のねらいについて述べた文として適切なものを、次のア～エから1つ選んで、その符号を書きなさい。

ア 好況時は国債を買い、一般の銀行の資金量を増やし、景気が過熱しないようにする。
イ 好況時は国債を売り、一般の銀行の資金量を減らし、景気が過熱しないようにする。
ウ 不況時は国債を買い、一般の銀行の資金量を減らし、景気を回復させようとする。
エ 不況時は国債を売り、一般の銀行の資金量を増やし、景気を回復させようとする。

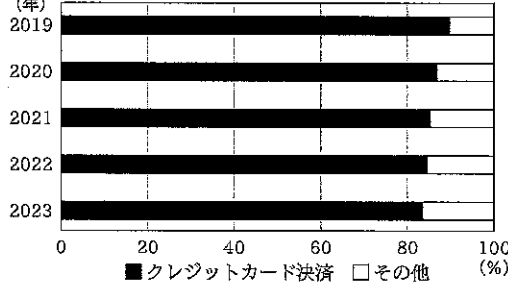
(4) 下線部dに関して、あとの問いに答えなさい。

資料1 キャッシュレス決済比率



(経済産業省Webページより作成)

資料2 キャッシュレス決済のうち
クレジットカード決済の割合



(経済産業省Webページより作成)

資料3 国内家計最終消費支出

(十億円)

年	金額
2019	298,851
2020	281,078
2021	290,147
2022	308,602
2023	318,920

(『国民経済計算年次推計』より作成)
※家計最終消費支出は、家計が日常の買い物やサービス利用に使ったお金の総額

- ① 資料1～3から読み取れることについて述べた次の文X, Yについて、その正誤の組み合わせとして適切なものを、あとのア～エから1つ選んで、その符号を書きなさい。

X キャッシュレス決済比率は上昇しているが、キャッシュレス決済のうちクレジットカード決済の割合は減少傾向である。
Y 国内家計最終消費支出は毎年増加しており、キャッシュレス決済比率も毎年上昇している。

ア X-正 Y-正 イ X-正 Y-誤 ウ X-誤 Y-正 エ X-誤 Y-誤

- ② キャッシュレス決済を利用して飲食店で持ち帰りの商品を購入した場合の契約と支払いに関して述べた次の文の [i], [ii] に入る語句の組み合わせとして適切なものを、あとのア～エから1つ選んで、その符号を書きなさい。

食事中に持ち帰りの商品を注文し、退店時に受け取ることにした。この場合、[i] 時点で契約は成立している。クレジットカードを利用することにしたので、代金は [ii] 支払いとなる。

ア i 注文した ii 商品受け取り時の イ i 商品を受け取った ii 商品受け取り時の
ウ i 注文した ii 後払いによる エ i 商品を受け取った ii 後払いによる

- 2 日本国憲法で定められている次のA～Dについて、あとの問いに答えなさい。

A：法律案の議決 B：憲法改正の国民投票 C：最高裁判所裁判官の国民審査 D：国会議員の選挙

- (1) Aに関して、次の問いに答えなさい。

- ① 次の文の [i], [ii] に入る語句の組み合わせとして適切なものを、あとのア～エから1つ選んで、その符号を書きなさい。

法律案の議決は多数決により行われ、憲法に特別の定めのある場合を除き、両議院の [i] で可決されると成立し、[ii] により公布される。

ア i 委員会 ii 内閣 イ i 委員会 ii 天皇 ウ i 本会議 ii 内閣 エ i 本会議 ii 天皇

- ② 資料1は、2020年から2024年の日本の国会における法案の提出・成立件数の合計を示したものである。これについて述べた次の文の [i], [ii] に入る語句の組み合わせとして適切なものを、あとのア～エから1つ選んで、その符号を書きなさい。

資料1

内閣提出法案		議員提出法案	
提出	成立	提出	成立
357	347	488	91

(内閣法制局Webページより作成)

資料を見ると、議員提出法案に比べて、内閣提出法案の方が成立した割合が [i] になっており、[ii] が内閣と一体になり政治を行う様子がうかがえる。

ア i 高く ii 与党 イ i 高く ii 野党 ウ i 低く ii 与党 エ i 低く ii 野党

- (2) B, Cに関して, 学校生活の場面で物事を決定する際, B, Cにおける有権者の参加方法に最も近い事例として適切なものを, 次のア～エから1つ選んで, その符号を書きなさい。
- ア 各クラスを代表したクラス委員が集まり, 先生との話し合いで球技大会の種目を決める。
- イ 各委員会の委員長が集まり, 全会一致で委員会運営についてのルールを決める。
- ウ 全校生徒を代表して, 生徒会長が今年度の文化祭のテーマを決める。
- エ 全校集会に出席した生徒が, 一人一票の投票を行うことにより新しい校則を決める。

(3) Dに関して, あとの問いに答えなさい。

- ① 選挙制度に関して述べた次の文X, Yについて, その正誤の組み合わせとして適切なものを, あとのア～エから1つ選んで, その符号を書きなさい。

X 小選挙区制は各選挙区から一人の代表を選ぶ制度であり, 政権が比較的安定しやすいといわれ, 他の選挙制度に比べて死票が少なくなる傾向がある。

Y 比例代表制は様々な世論が反映され, 小さな政党も議席を得る可能性が高まるといわれるが, 議会に多数派ができにくくなり物事が決まりにくくなる傾向がある。

ア X-正 Y-正 イ X-正 Y-誤 ウ X-誤 Y-正 エ X-誤 Y-誤

- ② 資料2は, 比例代表制(ドント式)で行われた選挙のモデルである。当選者の総数を6人とした場合, B党に配分される当選者数は何人か, 解答欄に合わせて書きなさい。

資料2

政党	得票数
A党	300
B党	210
C党	120
D党	60

- ③ 資料3は, P～T選挙区の有権者数と当選者数を示したモデルである。これに関して述べた次の文の [i] ～ [iii] に入る語句の組み合わせとして適切なものを, あとのア～カから1つ選んで, その符号を書きなさい。

資料3

選挙区	有権者数	当選者数
P選挙区	8,400,000	4
Q選挙区	4,800,000	3
R選挙区	2,100,000	2
S選挙区	1,200,000	1
T選挙区	900,000	1

選挙の課題の一つに, 選挙区によって議員一人あたりの有権者数が異なる一票の格差が挙げられる。資料3を見ると, [i] 選挙区が一人の有権者の一票が選挙結果に与える影響が最も大きくなっている。仮に, [i] 選挙区と資料内の他の選挙区を合わせて一つの選挙区をつくった場合(当選者数も合計する), 一票の格差の [ii], 選挙区が広範囲になることで, 元々の [i] 選挙区内の意見は, 合わせた選挙区を作る前と比べて国政に [iii] という状況が考えられる。

- ア i P ii 広がりにつながり iii 届きやすくなる
- イ i P ii 広がりにつながるが iii 届きにくくなる
- ウ i P ii 改善につながるが iii 届きにくくなる
- エ i T ii 広がりにつながり iii 届きやすくなる
- オ i T ii 改善につながる iii 届きやすくなる
- カ i T ii 改善につながるが iii 届きにくくなる