

令和 7 年 度

兵庫県公立高等学校学力検査問題

社 会

注 意

- 1 「開始」の合図があるまで開いてはいけません。
- 2 「開始」の合図で、1ページから12ページまで問題が印刷されていることを確かめなさい。
- 3 解答用紙の左上の欄に受検番号を書きなさい。
- 4 解答用紙の の得点欄には、何も書いてはいけません。
- 5 答えは、全て解答用紙の指定された解答欄に書きなさい。
- 6 問題は3題で、12ページまであります。
- 7 「終了」の合図で、すぐ鉛筆を置きなさい。
- 8 解答用紙は、机の上に置いて、退室しなさい。

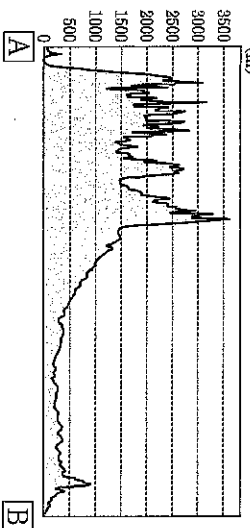
I 世界や日本の地理に関するあとの問いに答えなさい。

1 図1に関して、あとの問いに答えなさい。

(1) 図1の[A]～[B]の断面図である資料1

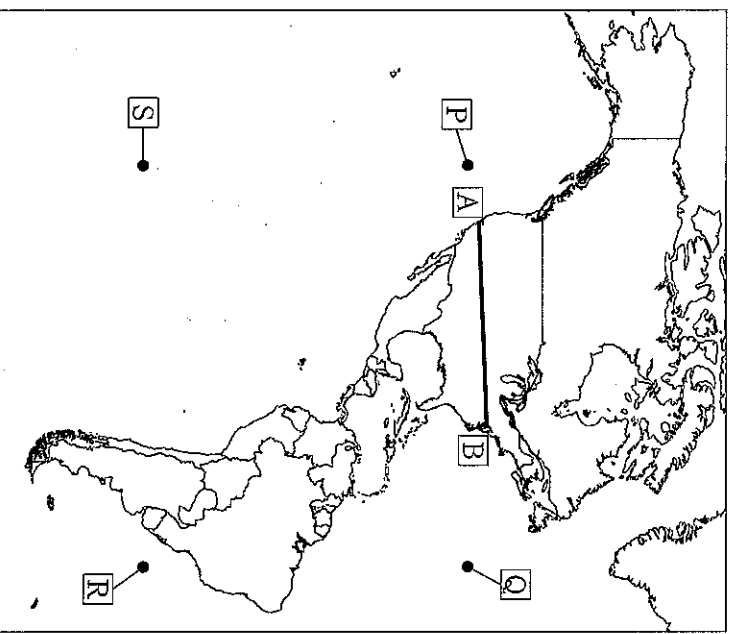
図1

について述べたあとの文の [i]、
[ii] に入る語句の組み合わせとして適切なものを、あとのア～エから1つ選んで、その符号を書きなさい。



資料1

[A] から東に進むと高く険しい [i] 山脈がある。次に高原状のグレートプレーンズや中央平原が広がっており、この地域を流れるミシシッピ川の西側の草原は [ii] と呼ばれる。さらに東のアパラチア山脈を越え、[B] へと至る。



ア i ロッキー ii セルバ イ i ロッキー ii プレーリー
ウ i アンデス ii セルバ エ i アンデス ii グレーリー

(2) 図1の[P]～[S]のうち、兵庫県西脇市（東経135度、北緯35度）を地球の正反対側に置いた地点（対せき点）として適切なものを、次のア～エから1つ選んで、その符号を書きなさい。

ア [P] イ [Q] ウ [R] エ [S]

(3) アメリカ大陸の農業と環境に関する次の問いに答えなさい。

① 資料2は、2002年と2022年の農地が陸地面積に占める割合、小麦、とうもろこし、大豆の生産量を示しており、D～Fはカナダ、ブラジル、アルゼンチンのいずれかである。また、次の文 [あ]～[う] は、それぞれの国の農業について述べている。アルゼンチンを示した組み合わせとして適切なものを、あとのア～カから1つ選んで、その符号を書きなさい。

資料2

	農地が陸地面積に占める割合 (%)	生産量 (千t)	
		小麦	とうもろこし
D	63.7	12,500	14,710
E	43.4	22,150	59,037
F	31.0	2,926	35,479
			41,903
			120,701
			2,335
			6,543

[あ] 熱帯林が切り開かれ、農地や牧場に換えられている。
[い] パンパと呼ばれる草原地域で、穀物の栽培や肉牛の放牧が盛んである。
[う] 北部には非農業地が広がるが、内陸部南側の平原では穀物の栽培が盛んである。

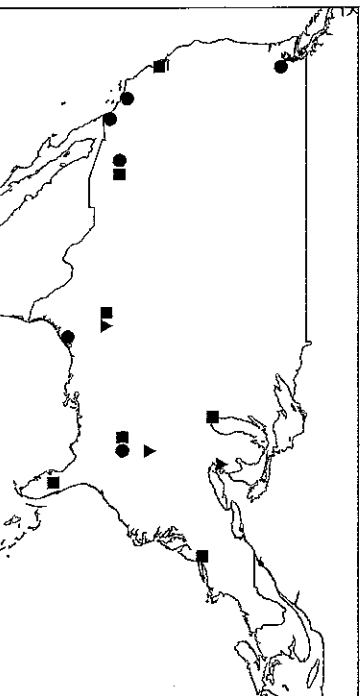
※農地の定義は国により異なる場合がある。（『世界国勢図会』より作成）

ア D- [い] イ D- [う] ウ E- [あ] エ E- [い] オ F- [あ] カ F- [う]
ナ 3字で書きなさい。

アメリカ合衆国では先端技術産業が盛んであり、例えば遺伝子組み換え技術など [] テクノロジーを活用した農産物も作られている。また、ブラジルでは、さとうきびなどを原料とする [] エタノールなどの [] 燃料で走る自動車も普及している。一方、原料の生産などのために森林を伐採することは環境問題につながるため、経済発展と自然環境の保全のバランスをとることが課題である。

- (4) 図2の▲, ■, ●はアメリカ合衆国における自動車産業, 航空機産業, ICT関連産業(電子機器産業など)のいずれかの産業が立地している主な場所を示したものである。また, あとの文X~Zは, いずれかの産業について述べている。ICT関連産業を示した組み合わせとして最も適切なのものを, あとのア~カから1つ選んで, その符号を書きなさい。

図2



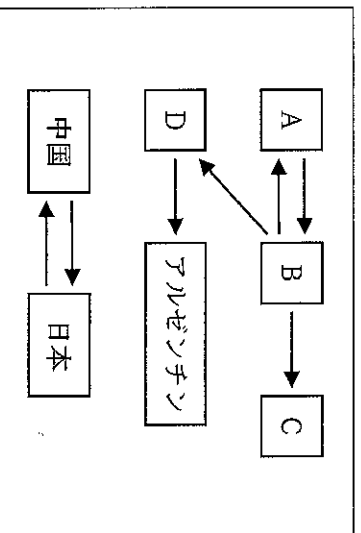
- X 先端技術産業の一つであり, アメリカ合衆国とヨーロッパ諸国で世界の市場を二分している。
 Y 五大湖周辺の都市を中心に発展したが, 現在はアジア諸国などとの競争が激しくなっている。
 Z シリコンバレーには関連企業が集中して立地し, 大学などと連携した高度な技術開発を行っている。

ア ▲-Y イ ▲-Z ウ ■-X エ ■-Z オ ●-X カ ●-Y

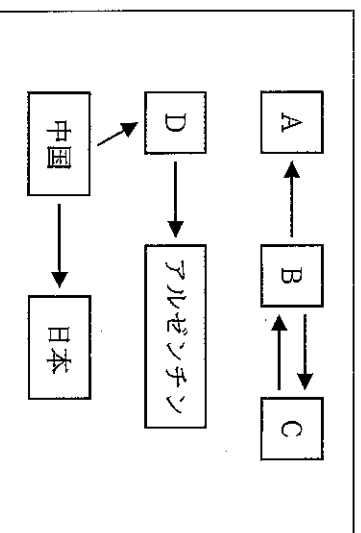
- (5) 資料3は, 2003年と2023年のアメリカ合衆国, カナダ, メキシコ, ブラジル, アルゼンチン, 日本, 中国の貿易について示したものである。資料中の[A]~[D]には, アメリカ合衆国, カナダ, メキシコ, ブラジルのいずれかが入る。資料中の[A]→[B]は, [B]の輸入額第1位の国が[A]という意味である。貿易について述べたあとの文を踏まえ, メキシコとブラジルの組み合わせとして適切なものを, あとのア~カから1つ選んで, その符号を書きなさい。

資料3

(2003年)



(2023年)



【世界国勢図会】より作成)

アメリカ合衆国, カナダ, メキシコでは3国間で貿易の自由化を図るための経済協定を結んでいる。資金の安いメキシコにアメリカ合衆国, カナダからの工場移転がすすみ, 近年メキシコでは自動車の生産や先端技術産業が盛んになっている。

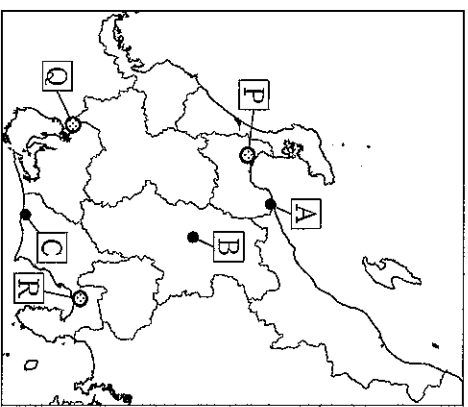
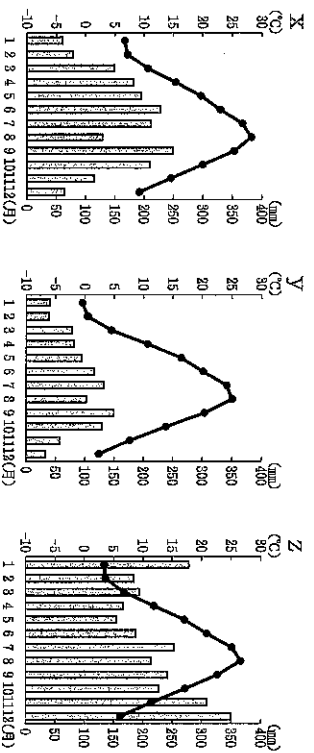
南アメリカの国々も経済協力のための協定を結び, 域内の自由貿易を促進するとともに, 近年は中国などとも貿易を活性化するための会合を重ね, 経済的な関係を深めている。

- | | | | | | |
|---|--------|--------|---|--------|--------|
| ア | メキシコ-A | ブラジル-D | イ | メキシコ-B | ブラジル-C |
| ウ | メキシコ-C | ブラジル-A | エ | メキシコ-C | ブラジル-D |
| オ | メキシコ-D | ブラジル-B | カ | メキシコ-D | ブラジル-C |

2 図1に関して、あとの問いに答えなさい。

図1

(1) 次のx～zのグラフは、図1のA～Cのいずれかの地点の月ごとの気温と降水量を示している。A～Cとx～zの組み合わせとして適切なものを、あとのア～カから1つ選んで、その符号を書きなさい。



(気象庁Webページより作成)

ア A-x B-y C-z イ A-x B-z C-y ウ A-y B-x C-z
エ A-y B-z C-x オ A-z B-x C-y カ A-z B-y C-x

(2) 資料1は、石川県、山梨県、岐阜県、愛知県の2022年の米、野菜、果実の産出額を示している。また、資料2は、2022年のキャベツ、レタス、ぶどうの収穫量が多い4県を示している。EとIの組み合わせとして適切なものを、あとのア～カから1つ選んで、その符号を書きなさい。

資料1 (億円)

	米	野菜	果実
D	235	90	33
E	61	134	816
岐阜県	174	385	61
F	244	1,119	183

(「生産農業所得統計」より作成)

資料2

	あ	い	う
1位	群馬県	長野県	E
2位	F	茨城県	長野県
3位	千葉県	群馬県	岡山県
4位	茨城県	長崎県	山形県

(「作物統計調査」より作成)

ア E-石川県 I-キャベツ イ E-石川県 I-レタス ウ E-山梨県 I-ぶどう
エ E-山梨県 I-レタス オ E-愛知県 I-キャベツ カ E-愛知県 I-ぶどう

(3) 図1の●の地域P～Rと、その特徴について述べた次の文a～cについて、その組み合わせとして適切なものを、あとのア～カから1つ選んで、その符号を書きなさい。

- a 川に挟まれた低地を堤防で囲んだ輪中で、稲作などが行われている。
b 雪解け水を利用した水力発電に支えられ、アルミニウム工業が発展した。
c 豊富な木材、湧き水をいかした製紙・パルプ工業が盛んである。

ア P-a Q-b R-c イ P-a Q-c R-b ウ P-b Q-a R-c
エ P-b Q-c R-a オ P-c Q-a R-b カ P-c Q-b R-a

(4) 資料3は、新潟県、福井県、長野県、愛知県における2022年の製造品出荷額と、出荷額の多い産業上位3位までを示している。また、あとの文[か]～[け]は、それぞれの県の産業について述べている。長野県を示した組み合わせとして適切なものを、あとのア～カから1つ選んで、その符号を書きなさい。

資料3

(億円)

県名	G	H	I	福井県
出荷額	51,194	478,946	66,464	23,953
1位	化学工業	輸送用機械器具	情報通信機械器具	電子部品・デバイス・電子回路
2位	食料品	電気機械器具	電子部品・デバイス・電子回路	化学工業
3位	金属製品	鉄鋼	生産用機械器具	繊維工業

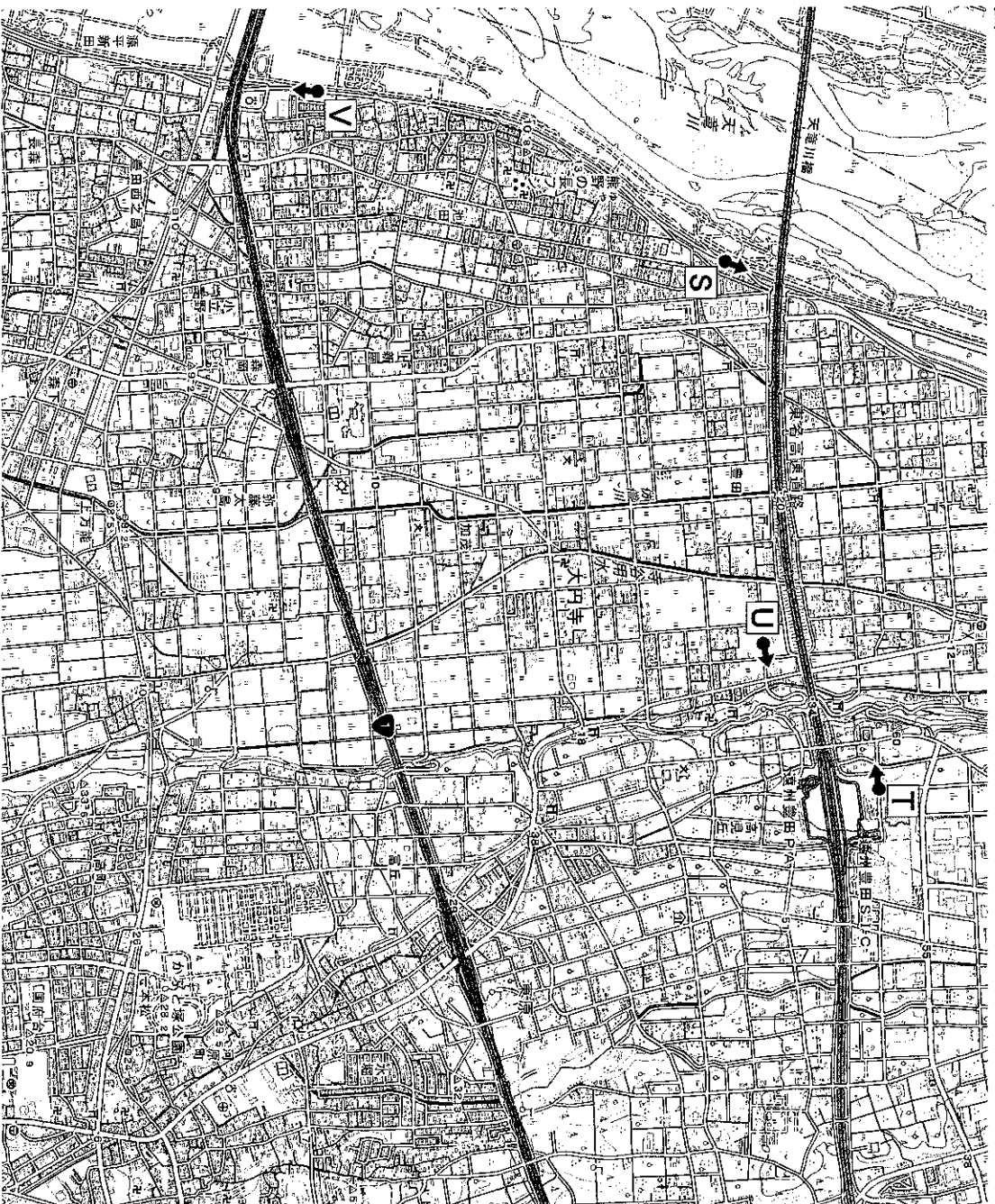
〔経済構造実態調査〕より作成

- [か] 製糸業が盛んな地域であったが、現在は豊富な水をいかした時計やカメラなどの生産が盛んである。
- [き] くぎなど金物加工の伝統技術をいかし、スプーンなど金属食器の生産が盛んである。
- [く] 自動車工業が盛んであり、完成した製品は専用の大型船で国内外に出荷されている。
- [け] 冬の農家の副業として始まった眼鏡枠づくりが盛んで、国内生産の大部分を占めている。

ア Gー[か] イ Gー[き] ウ Hー[く] エ Hー[け] オ Iー[か] カ Iー[け]

(5) 図2を見て、あとの問いに答えなさい。


図2




(2万5千分の1地形図「磐田」(2016年)を一部改変)

- ① 資料4, 5は, 図2の[S]~[V]のいずれかの地点から矢印の方向に撮影されたものである。撮影地点の組み合わせとして適切なものを, あとのア~エから1つ選んで, その符号を書きなさい。

資料4



資料5




- ア 資料4- [T] 資料5- [S] 1 資料4- [T] 資料5- [V]
 ウ 資料4- [U] 資料5- [S] エ 資料4- [U] 資料5- [V]

- ② この地域について述べた次の文の下線部ア~エのうち, 図2から読み取れることとして適切でないものを1つ選んで, その符号を書きなさい。

大円寺には, この地を流れる寺谷用水の開殺に尽力した平野重定の墓所があり, 毎年, 寺谷用水祭が行われている。ア 大円寺の西隣を寺谷用水が流れており, 1 寺の周辺には水田と住宅地がある。寺の南側にある道を東に進むと丁字形の交差点があり, その突き当たりには神社がある。交差点を南方向に折れると, 道路は緩やかに曲がっている。道路沿いのウ 東原地区には茶畑や果樹園がある。この道路をそのまま進むと立体交差の交差点があり, エ 上には東名高速道路が通っている。立体交差を通り過ぎ, 東側にある図書館では, この地の歴史に関わる資料を読むことができる。

- ③ 資料6は, 図2の寺谷用水の水路の写真である。また, 資料7, 8は寺谷用水に関わる資料である。あとの文を読み, [i], [ii]に入る語句の組み合わせとして適切なものを, あとのア~エから1つ選んで, その符号を書きなさい。

資料6



資料7

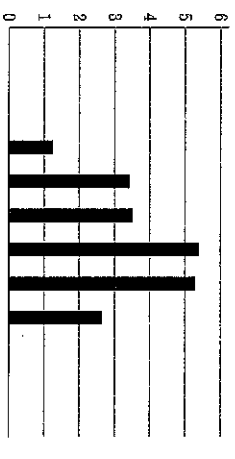
天竜川は日本有数の急流河川で, 古くから洪水が起ると多量の土砂が下流に押し流され, 流路を変えていました。寺谷用水は, 天竜川の堤防とそれに交差して木製の水路を設けた画期的なもので, 1590年に12kmの水路が完成し, 約2万石の水田を潤しました。この技術は, 北関東で同様の事業が展開されていく先駆けでしたが, 用水を維持するには, 多大な費用と労力が費やされました。現在は, 昭和54年に造られたダムから安定した取水が可能となっています。

(パンフレット「世界かんがい施設遺産 寺谷用水」より作成)

天竜川は流れが速く水量も豊富なことから流域で水害が頻繁におこった。人々は [i] ことで水害を防ぐとともに, 川の水を利用するために寺谷用水を整備した。資料8をみると, この用水は, 利用水量が時期により変動していることから, 必要な水量を調節しながら [ii] として利用されていることがわかる。

- ア i 堤防を築く ii 農業用水
 イ i 堤防を築く ii 工業用水
 ウ i ため池を造る ii 農業用水
 エ i ため池を造る ii 工業用水

資料8 寺谷用水の月別利用水量 (平均)
 (㎥/秒)



用水に水を流す期間 開始: 4月22日 終了: 9月27日

(寺谷用水土地改良区資料より作成)

II 歴史に関するあとの問いに答えなさい。

- 1 ひかりさんのクラスでは、「日本の世界との関わり」というテーマで班ごとにまとめた内容を発表しました。次のスライドと資料は、そのときに使用したものの一部である。

A班のスライド

【稲作の始まりについて】

縄文時代の終わりがころ、中国や朝鮮半島などから北九州へ渡来した人々が稲作を伝え、西日本から東日本の各地へと広まっていきました。また、稲作とともに青銅器や鉄器も伝わりました。

B班のスライド

【南蛮貿易について】

戦国時代の日本では、南蛮人とよばれたポルトガル人やスペイン人との貿易が盛んに行われました。南蛮貿易によって、鉄砲や火薬、中国産の生糸などがもたらされ、日本からは大量の銀が持ちだされました。

C班のスライド

【遣隋使・遣唐使について】

中国の政治のしくみや進んだ文化を学ぶため、留学生や留学僧が盛んに派遣されました。当時の日本では中国の影響を受けた文化が広がり、政治や仏教などに大きな影響を与えました。

D班のスライド

【元寇について】


フビライ=ハンは中国北部を支配し、国号を元としました。周辺諸国にも軍を進めたフビライは、日本に朝貢と服属を要求してきました。執権□□がその要求を拒むと、元軍は2度にわたり九州北部に押し寄せました。この襲来は、その後の社会に大きな影響を与えました。

E班のスライド

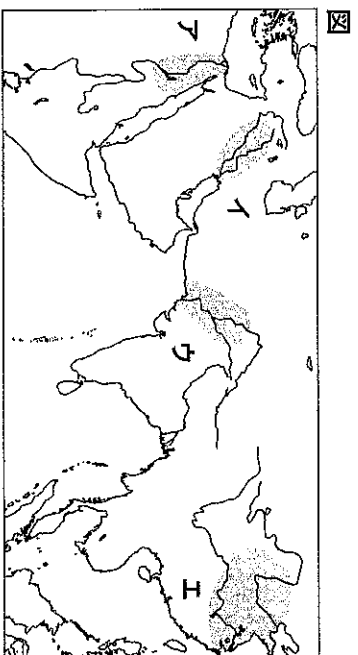
【鎖国について】

江戸幕府は、キリスト教の取りしまりと貿易を統制するねらいから、日本人の海外渡航と海外からの帰国を禁止しました。その後、キリスト教の布教にかかわる外国船の来航を禁止しました。

資料 1



資料 2



- (1) A班のスライドの下線部に関して、この時代にはアジアやアメリカの大河流域で古代文明がおこった。資料1の文字が使用された文明の中心地域として適切なものを、図のア～エから1つ選んで、その符号を書きなさい。

- (2) B班のスライドに関して、次の文の [i] ~ [iii] に入る語句の組み合わせとして適切なものを、あとのア~カから1つ選んで、その符号を書きなさい。

資料2は、1543年に [i] に伝来した鉄砲に関係する資料である。堺の様子を描いたこの資料からは、 [ii] ことが分かる。鉄砲の伝来は、戦国大名たちの戦術を大きく変え、全国統一の動きが加速した。また、この貿易によって日本から大量の銀が持ちだされた。なかでも2007年に世界遺産に登録された [iii] 銀山は、当時国内最大の産地であった。

ア	i	対馬	ii	国内でも鉄砲の生産が行われていた	iii	石見
イ	i	対馬	ii	南蛮人から鉄砲を購入していた	iii	石見
ウ	i	対馬	ii	南蛮人から鉄砲を購入していた	iii	佐渡
エ	i	種子島	ii	国内でも鉄砲の生産が行われていた	iii	石見
オ	i	種子島	ii	南蛮人から鉄砲を購入していた	iii	佐渡
カ	i	種子島	ii	国内でも鉄砲の生産が行われていた	iii	佐渡

- (3) C班のスライドに関して、この時期のできごとについて述べた文P~Rについて、古いものから順に並べたものを、あとのア~カから1つ選んで、その符号を書きなさい。

P 比叡山に天台宗の総本山となる寺院が建立された。
 Q 仏教の力によって国家を守る考えのもと、都に大仏が造立された。
 R 現存する世界最古の木造建築とされる寺院が建立された。

ア	P-Q-R	イ	P-R-Q	ウ	Q-P-R
エ	Q-R-P	オ	R-P-Q	カ	R-Q-P

- (4) D班のスライドに関して、次の問いに答えなさい。

- ① [] に入る名前を漢字で書きなさい。
 ② この時期のできごとについて述べた文として最も適切なものを、次のア~エから1つ選んで、その符号を書きなさい。
- ア 戦乱が全国に広まり、家来が主人に打ち勝つ下剋上の風潮が広がった。
 イ 困窮した御家人の救済をはかるために、徳政令が出された。
 ウ 全国の大名を統制するために、武家諸法度が定められた。
 エ 大陸からの攻撃に備え、九州北部に防人がおかれ、山城や水城が築かれた。

- (5) E班のスライドに関して、次の文の [i] , [ii] に入る語句の組み合わせとして適切なものを、あとのア~エから1つ選んで、その符号を書きなさい。

将軍徳川家光は、九州のキリスト教徒の百姓などがおこした島原・天草一揆をいずめたのち、 [i] 船の来航を禁止した。次いで、平戸の [ii] 商館を長崎の出島に移した。これ以降、キリスト教の布教にかかわらなかつた [ii] ・中国に長崎での貿易を許した。

ア	i	ポルトガル	ii	オランダ	イ	i	ポルトガル	ii	イギリス
ウ	i	スペイン	ii	オランダ	エ	i	スペイン	ii	イギリス

- (6) ひかりさんは、A班~E班のスライドを年代順に並べ替えました。古いものから順に並べたものを、次のア~カから1つ選んで、その符号を書きなさい。

ア	A-B-C-D-E	イ	A-B-D-C-E	ウ	A-C-B-D-E
エ	A-C-D-B-E	オ	A-D-B-C-E	カ	A-D-C-B-E

2 次の文は、「近代以降の日本のあゆみ」について学習しているのぞみさんと先生の会話の一部分である。あとの問いに答えなさい。

のぞみ：最近、明治時代の a 自由民権運動 について調べています。これは日本の民主的な政治をめざす動きですよな。

先生：そうですね。自由民権運動は、人々の自由と権利を求める運動です。この運動では、1881年に自由党を結成するとともに党首となった A らが重要な役割を果たしました。

のぞみ：先人たちの努力があってこそ、b 憲法 や国会ができたのですね。でも、それだけで民主的な政治が進んだのでしょうか。

先生：良いことではありませんでした。国会は開設されましたが、すべての人々が政治に参加できるわけではありませんでした。民主的な政治を求める運動が本格化したのは、大正時代に入ってからです。

のぞみ：どんな運動だったのですか。

先生：。大正デモクラシーといっって、普通選挙の確立や政党内閣の実現など、民主的な制度改革を求める運動でした。これによって、人々の政治参加が進みました。

のぞみ：こうした動きは、戦後の日本にも引き継がれたのですか。

先生：そうですね。教育や経済、d 選挙制度 などで民主的な改革が進みました。その基盤をもとに、1950年代からの。高度経済成長期には、国民の生活水準も大きく向上しました。

のぞみ：池田勇人内閣が経済のスロウガンにかかげた B の政策は有名ですね。民主的な政治の進展と経済の発展は相互に影響し合い、日本の社会をより良い方向に導いたのですね。

先生：そうですね。しかし、高度経済成長期には、さまざまな社会問題も発生しました。ぜひそういった点も調べてみてください。

資料 1

実施	有権者数 (万人)
第21回	1,459
第22回	3,688

(総務省Webページより作成)

資料 2

新しい日本は何で榮く
国民の内から盛り上る命で榮く
男の命ばかりでなく女の命で榮く
下から湧き上る力は何で現す
国民の正直に響く参政の一票で現す
男の筆ばかりでなく女の筆で現す
されは貴いものであります
下駄のように脱げないそれは吾この一票
帯のように解けないそれは吾この一票
もはや非議はいらないのであります
貴んでよるこんで
あの立派な人の名を書きましよう
どうぞ新日本を築いて下さいと熱願を
ささけて書きましよう
文部省

(国立国会図書館Webページより作成)



資料 3

(1) 下線部 a に関して、国会開設に向けた動きについて述べた文 P～R について、古いものから順に並べたものを、あとのア～カから 1 つ選んで、その符号を書きなさい。

P イギリスのような議会政治をめざして立憲改進黨が結成された。
Q 民権議院設立の建白書が政府に提出された。
R 大政官制を廃止して内閣制度が創設された。

ア P-Q-R イ P-R-R-Q ウ Q-P-R-R
エ Q-R-P オ R-P-Q カ R-Q-P

(2) 会話文中の A に入る名前を漢字で書きなさい。

(3) 下線部 b に関して、大日本帝国憲法について述べた次の文 X, Y について、その正誤の組み合わせとして適切なものを、あとのア～エから 1 つ選んで、その符号を書きなさい。

- X 国民の言論・出版・集会・結社などの自由は、法律の範囲内で認められた。
 Y 帝国議会は貴族院、衆議院の二院制により成立すると定められた。

ア X-正 Y-正 イ X-正 Y-誤 ウ X-誤 Y-正 エ X-誤 Y-誤

(4) 下線部 c に関して、次の文の i, ii に入る語句の組み合わせとして適切なものを、あとのア～エから 1 つ選んで、その符号を書きなさい。

女性解放を主張して青鞞社をつくった i らは、第一次世界大戦後には政治活動の自由などを求める運動をおこした。政治学者の吉野作造は ii 主義をとまえ、政党内閣の確立と参政権の拡大を主張した。

ア i 平塚らいてう ii 民主 イ i 平塚らいてう ii 民本
 ウ i 樋口一葉 ii 民主 エ i 樋口一葉 ii 民本

(5) 下線部 d に関して、資料 1 は第 21 回、第 22 回の衆議院議員総選挙の有権者数を示したものである。また、資料 2 はいずれかの総選挙の際に使用された選挙ポスターであり、資料 3 はいずれかの総選挙直後に開かれた国会の写真である。資料 1 ～ 3 を踏まえ、次の文の i, ii に入る語句の組み合わせとして適切なものを、あとのア～エから 1 つ選んで、その符号を書きなさい。

資料 2 は、 i 衆議院議員総選挙で使用された選挙ポスターであり、この総選挙では ii が認められていたことがわかる。

ア i 第 21 回 ii 男子のみに選挙権, 被選挙権
 イ i 第 21 回 ii 男女に選挙権, 被選挙権
 ウ i 第 22 回 ii 男子のみに選挙権, 被選挙権
 エ i 第 22 回 ii 男女に選挙権, 被選挙権

(6) 会話文中の B に入る語句を漢字 4 字で書きなさい。

(7) 下線部 e に関して、次の文の i ~ iii に入る語句の組み合わせとして適切なものを、あとのア～カから 1 つ選んで、その符号を書きなさい。

日本経済は 1955 年から年平均で 10% 程度の成長を続け、政府も経済成長を促進した。1964 年にはアジアで初めてのオリンピック・パラリンピックが i で開催された。その後も高い成長率は続いたが、1973 年に第四次中東戦争がおこると ii し、日本の高度経済成長は終わり、安定成長に移行した。また、経済発展による自然や生活環境の破壊が進み、公害問題が発生したため、政府は 1967 年に iii を制定し、公害防止への取組を強めた。

ア i 札幌 ii 石油危機が発生 iii 環境基本法
 イ i 札幌 ii バブル経済が崩壊 iii 環境基本法
 ウ i 札幌 ii バブル経済が崩壊 iii 公害対策基本法
 エ i 東京 ii バブル経済が崩壊 iii 公害対策基本法
 オ i 東京 ii 石油危機が発生 iii 公害対策基本法
 カ i 東京 ii 石油危機が発生 iii 環境基本法

III 政治や経済のしくみに関するあとの問いに答えなさい。

1 政治に関する次の学習課題を読み、あとの問いに答えなさい。

- ・ ^a 国際社会において、^b 国家が互いに尊重しあうには何が大切なのだろうか。
- ・ グローバル化の中、^c 地域の結び付きが強くなることにどのような利点があるのだろうか。

(1) 下線部 a に関して、次の問いに答えなさい。

① 国際連合に関して述べた次の文の i ii, iii に入る語句の組み合わせとして適切なものを、あとのア～エから 1 つ選んで、その符号を書きなさい。

国際連合は i ii 世界大戦直後に発足し、現在では190を超える国が加盟している。世界の平和と安全を、 iii により維持しようとする国際機関である。

ア i 第一次 ii 集団安全保障 イ i 第一次 ii 勢力の均衡
ウ i 第二次 ii 集団安全保障 エ i 第二次 ii 勢力の均衡

② 資料は、安全保障理事会に提案されたある重要な決議案に対する投票結果を示したものである。これについて述べた文として適切なものを、あとのア～エから 1 つ選んで、その符号を書きなさい。

資料

	賛成	反対	棄権
常任理事国	3	1	1
非常任理事国	8	0	2

ア 理事国全体で過半数の賛成があるため可決される。
イ 常任理事国の中に反対が 1 か国あるため否決される。
ウ 理事国の中に反対した国と棄権した国があり、全会一致でないため否決される。
エ 常任理事国、非常任理事国それぞれにおいて、過半数の賛成があるため可決される。

(2) 下線部 b に関して、次の問いに答えなさい。

① 日本の主権に関して述べた次の文 X, Y について、その正誤の組み合わせとして適切なものを、あとのア～エから 1 つ選んで、その符号を書きなさい。

X 国家は主権、領域、政府の三つの要素により成り立っている。
Y 国民主権の考え方は、日本国憲法の基本原理の一つである。

ア X-正 Y-正 イ X-正 Y-誤 ウ X-誤 Y-正 エ X-誤 Y-誤
② 日本の国会に関して述べた次の文の i ii に入る語句を解答欄に合わせて書きなさい。

衆議院で可決した法律案が参議院で否決された場合、法律が成立するためには衆議院で出席議員の i ii 以上の賛成で再可決される必要がある。

③ 国家の領域に関して述べた次の文の i ii, iii に入る語句の組み合わせとして適切なものを、あとのア～エから 1 つ選んで、その符号を書きなさい。

国家の領域について、 i ii の範囲までの上空のことを領空という。また、海岸から iii 海里以内は排他的経済水域といい、沿岸国はその水域の資源を利用できる。

ア i 領土 ii 12 イ i 領土 ii 200
ウ i 領海 ii 12 エ i 領海 ii 200

(3) 下線部 c に関して述べた文として適切なものを、次のア～エから 1 つ選んで、その符号を書きなさい。

ア EU域内では共通通貨ユーロが導入され、加盟国間の経済格差が解消された。
イ APECはアジア・太平洋地域の国々で組織されており、経済協力をめざしている。
ウ AUは南米諸国の経済協力を促す試みとして、2002年に発足した。
エ ASEANは東アジアや西アジアの国々と活発に会議を行い、結びつきを強めている。

- 2 さくらさんは、「持続可能な社会をつくるために」というテーマで、経済の視点から学習を進めました。
- (1) さくらさんと先生の経済についての会話を読み、あとの問いに答えなさい。

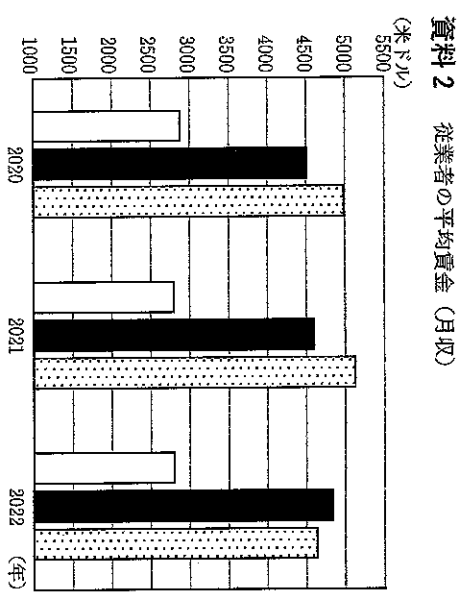
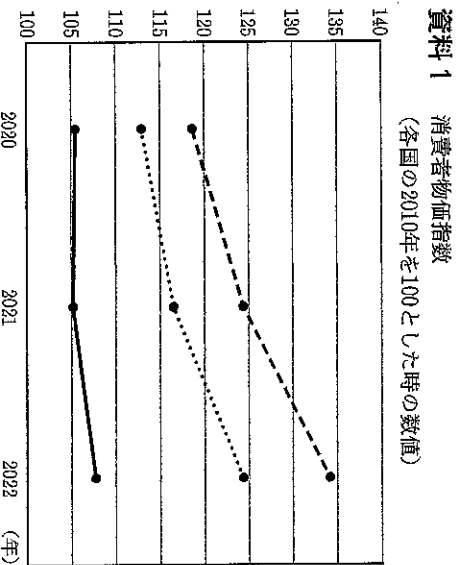
さくら：持続可能な社会をつくるためには、経済の安定が重要だと思います。そのためには物価の安定も大切だと思うので、物価について学習しようと思います。

先生：そうですね。インフレーションとは、お金に対して物の価値が高くなること、つまり物価が **i** ことをいいます。インフレーションは基本的には **ii** 上回る好景気の時におこるのですが、あまりに急激なインフレーションは私たちの生活を不安定にします。やはり、物価の安定は持続可能な社会をつくるために重要な要素だといえますね。

さくら：海外でも物価の安定については話題になっていますよね。

先生：資料1によると、2021年から2022年にかけて各国の物価が上昇していることがわかります。一方で、資料2によると、2021年から2022年にかけて **iii** では賃金が下がっていることがわかります。一般的に、物価が上昇し賃金が下降すると、物価と賃金の両方が下降するよりも実質的に賃金が **iv** ので、社会全体で需要が **v** 動きが見られます。

さくら：経済の安定のためには、物価と賃金のバランスが大切だということがわかりました。
先生：物価の上昇に賃金上昇が追いつくことが大切であると考えられますね。



(『世界国勢図会』より作成)

(『世界国勢図会』より作成)

- ① 会話文中の **i** , **ii** に入る語句の組み合わせとして適切なものを、次のア～エから1つ選んで、その符号を書きなさい。

ア **i** 上がる **ii** 需要が供給を **イ i** 上がる **ii** 供給が需要を
 ウ **i** 下がる **ii** 需要が供給を **エ i** 下がる **ii** 供給が需要を

- ② 会話文中の **iii** ~ **v** に入る語句の組み合わせとして適切なものを、次のア～クから1つ選んで、その符号を書きなさい。

ア **iii** アメリカ **iv** 上がる **v** 増える **イ iii** アメリカ **iv** 上がる **v** 減る
 ウ **iii** アメリカ **iv** 下がる **v** 増える **エ iii** アメリカ **iv** 下がる **v** 減る
 オ **iii** ドイツ **iv** 上がる **v** 増える **ク iii** ドイツ **iv** 上がる **v** 減る
 キ **iii** ドイツ **iv** 下がる **v** 増える

(2) 次にさくらさんは、持続可能な社会をつくるための国際社会における取組について調べました。あとの問いに答えなさい。

資料3 国別のODA実績の推移 (百万ドル)

	2019年	2020年	2021年	2022年
アメリカ	33,492	35,576	47,805	60,522
ドイツ	24,198	28,708	33,272	35,640
日本	15,588	16,260	17,636	17,500
イギリス	19,367	18,568	15,712	15,762
フランス	12,211	14,125	15,506	16,014

(外務省Webページより作成)

資料4 国別のGNIの推移 (億ドル)

	2019年	2020年	2021年	2022年
アメリカ	219,075	217,400	238,996	260,776
ドイツ	40,347	39,987	44,433	42,355
日本	53,185	52,361	52,530	45,041
イギリス	28,485	26,403	31,587	31,047
フランス	27,874	26,680	30,245	28,245

(『世界国勢図会』より作成)

資料5 日本の年平均為替相場

2021年	2022年
109.8	131.5

(円/1米ドルあたり)

(『世界国勢図会』より作成)

① さくらさんが資料3, 4をもとにまとめた次の文の [i], [ii] に入る語句の組み合わせとして適切なものを, あとのア～エから1つ選んで, その符号を書きなさい。

資料の期間においてドル単位で考えると, ODA実績が最も伸びているのは [i] である。5か国のGNIに占めるODA実績の割合は, 期間内において [ii] 。

ア i アメリカ ii 減少している国もある イ i アメリカ ii 全ての国で伸び続けている
ウ i ドイツ ii 減少している国もある エ i ドイツ ii 全ての国で伸び続けている

② さくらさんは, 2021年から2022年にかけて日本のODA実績が減少していることを不思議に思いました。資料がドル単位で作られていることに着目し, その時期の為替相場を調べたものが資料5である。これらについて述べた文として適切なものを, 次のア～エから1つ選んで, その符号を書きなさい。

ア この間において円高が進み, 円単位で考えると日本のODA実績は増加している。
イ この間において円高が進んだが, 円単位で考えても日本のODA実績は減少している。
ウ この間において円安が進み, 円単位で考えると日本のODA実績は増加している。
エ この間において円安が進んだが, 円単位で考えても日本のODA実績は減少している。

③ さくらさんが, 自由貿易についてまとめた次の文の [i], [ii] に入る語句の組み合わせとして適切なものを, あとのア～エから1つ選んで, その符号を書きなさい。

日本は2018年に結ばれた [i] に参加するなど, 対象国との貿易の自由化を進めている。それにより外国産の安い農産物が多く輸入され, 食料自給率が [ii] ことが予測されている。

ア i USMCA ii 上昇する イ i USMCA ii 低下する
ウ i TPP11 ii 上昇する エ i TPP11 ii 低下する

(3) さくらさんは, 学習したことを次の文章にまとめました。さくらさんの考え方に最も近い領域を, 資料6のア～カから1つ選んで, その符号を書きなさい。

持続可能な社会をつくるためには, 国民生活の保障と安定に向けた政策が重要だと考えるので, そのために積極的に政府が役割を果たすべきだと思います。その上で, 自国の経済と国際協調はどちらを優先するとうわけではなく, 両方のバランスを取りながら社会が成長することが望ましいと考えます。まずは私自身が地域の現状を知ること, 今自分ができる具体的な地域貢献活動を探してみようと思います。

資料6

